

5

A

## 2015 (II) भौतिक विज्ञान प्रश्न पत्र

H

समय : 3:00 घंटे

पूर्णांक : 200 अंक

### अनुदेश

- आपने हिन्दी को माध्यम चुना है। इस परीक्षा पुस्तिका में पचहत्तर (20 भाग 'A' में + 25 भाग 'B' + 30 भाग 'C' में) बहुल विकल्प प्रश्न (MCQ) दिए गए हैं। आपको भाग 'A' में से अधिकतम 15 और भाग 'B' में 20 तथा भाग 'C' में से 20 प्रश्नों के उत्तर देने हैं। यदि निर्धारित से अधिक प्रश्नों के उत्तर दिए गए तब केवल पहले भाग 'A' से 15, भाग 'B' से 20 तथा भाग 'C' से 20 उत्तरों की जांच की जाएगी।
- ओ.एम.आर.** उत्तर पत्रक अलग से दिया गया है। अपना रोल नम्बर और केन्द्र का नाम लिखने से पहले यह जांच लीजिए कि पुस्तिका में पृष्ठ पूरे और सही हैं तथा कहीं से कटे-फटे नहीं हैं। यदि ऐसा है तो आप इन्विजिलेटर से उसी कोड की पुस्तिका बदलने का निवेदन कर सकते हैं। इसी तरह से **ओ.एम.आर.** उत्तर पत्रक को भी जांच लें। इस पुस्तिका में रफ काम करने के लिए अतिरिक्त पन्ने संलग्न हैं।
- ओ.एम.आर.** उत्तर पत्रक के पृष्ठ 1 में दिए गए स्थान पर अपना रोल नम्बर, नाम तथा इस परीक्षा पुस्तिका का क्रमांक लिखिए, साथ ही अपना हस्ताक्षर भी अवश्य करें।
- आप अपनी **ओ.एम.आर.** उत्तर पत्रक में रोल नंबर, विषय कोड, पुस्तिका कोड और केन्द्र कोड से संबंधित समुचित वृत्तों को काले बॉल पेन से अवश्य काला करें। यह एक मात्र परीक्षार्थी की जिम्मेदारी है कि वह **ओ.एम.आर.** उत्तर पत्रक में दिए गए निर्देशों का पूरी सावधानी से पालन करें, ऐसा न करने पर कम्प्यूटर विवरणों का सही तरीके से अक्यूटि नही कर पाएगा, जिससे अंततः आपको हानि, जिसमें आपकी **ओ.एम.आर.** उत्तर पत्रक की अस्वीकृति भी शामिल है, हो सकती है।
- भाग 'A' में प्रत्येक प्रश्न के 2 अंक, भाग 'B' में प्रत्येक प्रश्न के 3.5 अंक तथा 'C' में प्रत्येक प्रश्न 5 अंक का है। प्रत्येक गलत उत्तर का ऋणात्मक मूल्यांक 25% की दर से किया जाएगा।
- प्रत्येक प्रश्न के नीचे चार विकल्प दिए गए हैं। इनमें से केवल एक विकल्प ही "सही" अथवा "सर्वोत्तम हल" है। आपको प्रत्येक प्रश्न का सही अथवा सर्वोत्तम हल ढूँढना है।
- नकल करते हुए या अनुचित तरीकों का प्रयोग करते हुए पाए जाने वाले परीक्षार्थियों का इस और अन्य भावी परीक्षाओं के लिए अयोग्य ठहराया जा सकता है।
- परीक्षार्थी को उत्तर या रफ पन्नों के अतिरिक्त कहीं और कुछ भी नहीं लिखना चाहिए।
- केलक्यूलेटर का उपयोग करने की अनुमति नहीं है।
- परीक्षा समाप्ति पर छिद्र बिन्दु चिह्नित स्थान से ओ.एम.आर. उत्तर पत्रक को विभाजित करें। इन्विजिलेटर को मूल ओ.एम.आर. उत्तर पत्रक सौंपने के पश्चात आप इसकी कॉर्बनलैस प्रतिलिपि ले जा सकते हैं।**
- हिन्दी माध्यम/संस्करण के प्रश्न में विसंगति होने/पाये जाने पर अंग्रेजी संस्करण प्रमाणिक होगा।
- केवल परीक्षा की पूरी अवधि तक बैठने वाले परीक्षार्थी को ही परीक्षा पुस्तिका साथ ले जाने की अनुमति दी जाएगी।

रोल नंबर : .....

नाम : .....

परीक्षार्थी द्वारा भरी गई जानकारी को मैं सत्यापित करता हूँ।

.....  
इन्विजिलेटर के हस्ताक्षर

FOR ROUGH WORK



उपयोगी मूलभूत नियतांक/ USEFUL FUNDAMENTAL CONSTANTS

|                |                         |                        |  |
|----------------|-------------------------|------------------------|--|
| m              | इलेक्ट्रॉन का द्रव्यमान | Mass of electron       | $9.11 \times 10^{-31} \text{kg}$                     |
| h              | प्लांक नियतांक          | Planck's constant      | $6.63 \times 10^{-34} \text{ J s}$                   |
| e              | इलेक्ट्रॉन का आवेश      | Charge of electron     | $1.6 \times 10^{-19} \text{ C}$                      |
| k              | बोल्ट्समान नियतांक      | Boltzmann constant     | $1.38 \times 10^{-23} \text{ J/K}$                   |
| c              | प्रकाश का वेग           | Velocity of light      | $3.0 \times 10^8 \text{ m/s}$                        |
| R              | मोलर गैस नियतांक        | Molar gas constant     | $8.314 \text{ J K}^{-1} \text{ mole}^{-1}$           |
| Ry             | रिडबर्ग नियतांक         | Rydberg constant       | $1.097 \times 10^7 \text{ m}^{-1}$                   |
| N <sub>A</sub> | आवोगाद्रो संख्या        | Avogadro number        | $6.023 \times 10^{23} \text{ mole}^{-1}$             |
| G              | न्यूटन नियतांक          | Newton constant        | $6.67 \times 10^{-11} \text{ N m}^2 \text{ kg}^{-2}$ |
| $\epsilon_0$   | परावैद्युत अचर          | Permittivity of vacuum | $8.854 \times 10^{-12} \text{ F m}^{-1}$             |
| $\mu_0$        | चुंबकीय व्याप्यता       | Permeability of vacuum | $4\pi \times 10^{-7} \text{ H m}^{-1}$               |
|                | 1 eV                    | 1 eV                   | $1.6 \times 10^{-19} \text{ J}$                      |
|                | amu                     | amu                    | $1.67 \times 10^{-27} \text{ kg}$                    |

## LIST OF THE ATOMIC WEIGHTS OF THE ELEMENTS

| Element     | Symbol | Atomic Number | Atomic Weight | Element      | Symbol | Atomic Number | Atomic Weight |
|-------------|--------|---------------|---------------|--------------|--------|---------------|---------------|
| Actinium    | Ac     | 89            | (227)         | Mercury      | Hg     | 80            | 200.59        |
| Aluminium   | Al     | 13            | 26.98         | Molybdenum   | Mo     | 42            | 95.94         |
| Americium   | Am     | 95            | (243)         | Neodymium    | Nd     | 60            | 144.24        |
| Antimony    | Sb     | 51            | 121.75        | Neon         | Ne     | 10            | 20.183        |
| Argon       | Ar     | 18            | 39.948        | Neptunium    | Np     | 93            | (237)         |
| Arsenic     | As     | 33            | 74.92         | Nickel       | Ni     | 28            | 58.71         |
| Astatine    | At     | 85            | (210)         | Niobium      | Nb     | 41            | 92.91         |
| Barium      | Ba     | 56            | 137.34        | Nitrogen     | N      | 7             | 14.007        |
| Berkelium   | Bk     | 97            | (249)         | Nobelium     | No     | 102           | (253)         |
| Beryllium   | Be     | 4             | 9.012         | Osmium       | Os     | 76            | 190.2         |
| Bismuth     | Bi     | 83            | 208.98        | Oxygen       | O      | 8             | 15.9994       |
| Boron       | B      | 5             | 10.81         | Palladium    | Pd     | 46            | 106.4         |
| Bromine     | Br     | 35            | 79.909        | Phosphorus   | P      | 15            | 30.974        |
| Cadmium     | Cd     | 48            | 112.40        | Platinum     | Pt     | 78            | 195.09        |
| Calcium     | Ca     | 20            | 40.08         | Plutonium    | Pu     | 94            | (242)         |
| Californium | Cf     | 98            | (251)         | Polonium     | Po     | 84            | (210)         |
| Carbon      | C      | 6             | 12.011        | Potassium    | K      | 19            | 39.102        |
| Cerium      | Ce     | 58            | 140.12        | Praseodymium | Pr     | 59            | 140.91        |
| Cesium      | Cs     | 55            | 132.91        | Promethium   | Pm     | 61            | (147)         |
| Chlorine    | Cl     | 17            | 35.453        | Protactinium | Pa     | 91            | (231)         |
| Chromium    | Cr     | 24            | 52.00         | Radium       | Ra     | 88            | (226)         |
| Cobalt      | Co     | 27            | 58.93         | Radon        | Rn     | 86            | (222)         |
| Copper      | Cu     | 29            | 63.54         | Rhenium      | Re     | 75            | 186.23        |
| Curium      | Cm     | 96            | (247)         | Rhodium      | Rh     | 45            | 102.91        |
| Dysprosium  | Dy     | 66            | 162.50        | Rubidium     | Rb     | 37            | 85.47         |
| Einsteinium | Es     | 99            | (254)         | Ruthenium    | Ru     | 44            | 101.1         |
| Erbium      | Er     | 68            | 167.26        | Samarium     | Sm     | 62            | 150.35        |
| Europium    | Eu     | 63            | 151.96        | Scandium     | Sc     | 21            | 44.96         |
| Fermium     | Fm     | 100           | (253)         | Selenium     | Se     | 34            | 78.96         |
| Fluorine    | F      | 9             | 19.00         | Silicon      | Si     | 14            | 28.09         |
| Francium    | Fr     | 87            | (223)         | Silver       | Ag     | 47            | 107.870       |
| Gadolinium  | Gd     | 64            | 157.25        | Sodium       | Na     | 11            | 22.9898       |
| Gallium     | Ga     | 31            | 69.72         | Strontium    | Sr     | 38            | 87.62         |
| Germanium   | Ge     | 32            | 72.59         | Sulfur       | S      | 16            | 32.064        |
| Gold        | Au     | 79            | 196.97        | Tantalum     | Ta     | 73            | 180.95        |
| Hafnium     | Hf     | 72            | 178.49        | Technetium   | Tc     | 43            | (99)          |
| Helium      | He     | 2             | 4.003         | Tellurium    | Te     | 52            | 127.60        |
| Holmium     | Ho     | 67            | 164.93        | Terbium      | Tb     | 65            | 158.92        |
| Hydrogen    | H      | 1             | 1.0080        | Thallium     | Tl     | 81            | 204.37        |
| Indium      | In     | 49            | 114.82        | Thorium      | Th     | 90            | 232.04        |
| Iodine      | I      | 53            | 126.90        | Thulium      | Tm     | 69            | 168.93        |
| Iridium     | Ir     | 77            | 192.2         | Tin          | Sn     | 50            | 118.69        |
| Iron        | Fe     | 26            | 55.85         | Titanium     | Ti     | 22            | 47.90         |
| Krypton     | Kr     | 36            | 83.80         | Tungsten     | W      | 74            | 183.85        |
| Lanthanum   | La     | 57            | 138.91        | Uranium      | U      | 92            | 238.03        |
| Lawrencium  | Lr     | 103           | (257)         | Vanadium     | V      | 23            | 50.94         |
| Lead        | Pb     | 82            | 207.19        | Xenon        | Xe     | 54            | 131.30        |
| Lithium     | Li     | 3             | 6.939         | Ytterbium    | Yb     | 70            | 173.04        |
| Lutetium    | Lu     | 71            | 174.97        | Yttrium      | Y      | 39            | 88.91         |
| Magnesium   | Mg     | 12            | 24.312        | Zinc         | Zn     | 30            | 65.37         |
| Manganese   | Mn     | 25            | 54.94         | Zirconium    | Zr     | 40            | 91.22         |
| Mendelevium | Md     | 101           | (256)         |              |        |               |               |

\* Based on mass of  $C^{12}$  at 12.000... . The ratio of these weights of those on the order chemical scale (in which oxygen of natural isotopic composition was assigned a mass of 16.0000...) is 1.000050. (Values in parentheses represent the most stable known isotopes)

## भाग \PART 'A'

1. निम्न शब्दों को समूहों में हर एक में एक संख्या छिपी हुई है, जिसके आधार पर आपको उन्हें घटते क्रम में व्यवस्थित करना है।:

- E. थाली में छेद मत करो  
F. खचरे को पांचा मत करना  
G. बगीचा रम्य है।  
H. बरसात में भीगे।

1. H, F, G, H                      2. E, G, F, H  
3. H, F, G, E                      4. H, E, F, G

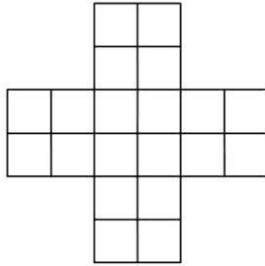
1. In each of the following groups of words is a hidden number, based on which you should arrange them in descending order.

Pick the correct answer:

- E. Papers I Xeroxed  
F. Wi-Fi veteran  
G. Yourself ourselves  
H. Breaks even

1. H, F, G, H                      2. E, G, F, H  
3. H, F, G, E                      4. H, E, F, G


2.



उपरोक्त चित्र में वर्गों की संख्या है

1. 30                                      2. 29  
3. 25                                      4. 20

2.



The number of squares in the above figure is

1. 30                                      2. 29  
3. 25                                      4. 20

3. एक दूकानदार एक उत्पाद को Rs. 100 में खरीदता है तथा उसे 10% लाभ में बेचता है।

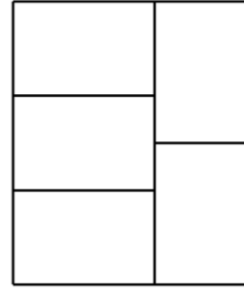
ग्राहक उसी चीज़ को उसी दूकानदार को 10% नुकसान भोगते हुये बेच देता है। इस लेन-देन में दूकानदार को मिलता है

1. कोई लाभ या नुकसान नहीं  
2. Rs. 11  
3. Re. 1  
4. Rs. 20

3. A shopkeeper purchases a product for Rs.100 and sells it making a profit of 10%. The customer resells it to the same shopkeeper incurring a loss of 10%. In these dealings the shopkeeper makes

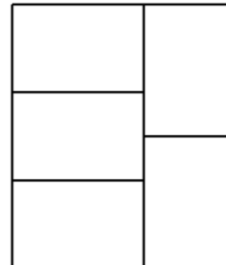
1. no profit, no loss  
2. Rs. 11  
3. Re. 1  
4. Rs. 20

4. जैसे दर्शाया गया है, परिमाण 165 के एक बड़े आयत के अंदर पाँच सर्वांगसम आयत खींचे जाते हैं। इन पाँचों आयतों में से किसी एक का परिमाण क्या है?



1. 37                                      2. 75  
3. 15                                      4. 165

4. Five congruent rectangles are drawn inside a big rectangle of perimeter 165 as shown. What is the perimeter of one of the five rectangles?



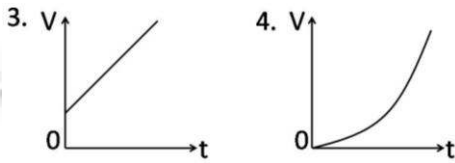
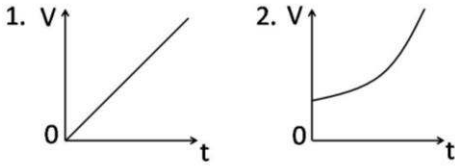
1. 37                                      2. 75  
3. 15                                      4. 165

5. एक व्यक्ति 10 km/h की गति से अनुदाल, 6 km/h की गति से ऊर्ध्व, तथा 7.5 km/h की गति

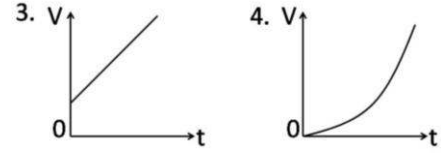
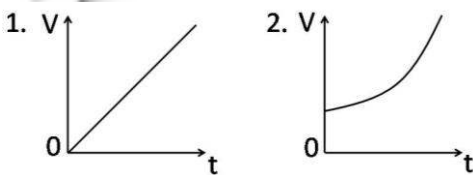
से समतल में चलता है। यदि उसे स्थान A से दूसरे स्थान B तक जाने के लिए 3 घंटे लगते हैं, तथा वापसी के लिए 1 घंटा, A तथा B के बीच की दूरी है:

1. 15 km.
  2. 23.5 km.
  3. 16 km.
  4. दूरी के परिकलन के लिए दिये गये आंकड़े अपर्याप्त हैं।
5. A person walks downhill at 10 km/h, uphill at 6 km/h and on the plane at 7.5 km/h. If the person takes 3 hours to go from a place A to another place B, and 1 hour on the way back, the distance between A and B is
1. 15 km.
  2. 23.5 km.
  3. 16 km.
  4. Given data is insufficient to calculate the distance.

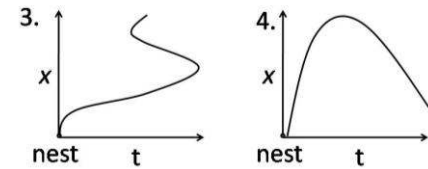
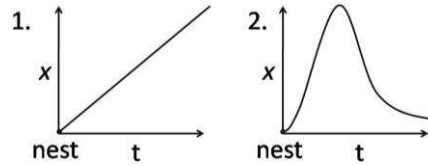
6. एक बर्तन में जल अधूरा भरा जाता है। और जल उसमें डाला जाता है, समय के सीधे अनुपात की गति से [अर्थात्,  $\frac{dV}{dt} \propto t$ ]। जल के कुल आयतन  $V$  को समय  $t$  के साथ-साथ परिवर्तन को निम्न रेखाचित्रों में से कौन-सा सही दर्शाता है?



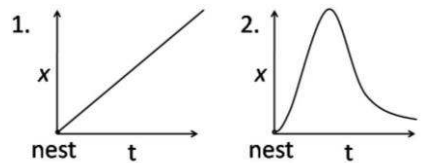
6. A vessel is partially filled with water. More water is added to it at a rate directly proportional to time [i.e.,  $\frac{dV}{dt} \propto t$ ]. Which of the following graphs depicts correctly the variation of total volume  $V$  of water with time  $t$ ?

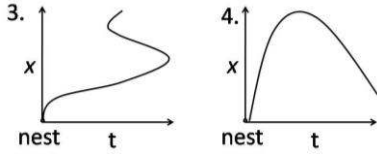


7. किसी क्षण घड़ी के अंकपट्ट में घंटे की सुई एवं मिनट की सुई 5 तथा 6 अंकों के बीच एक के ऊपर एक आते हैं। इस क्षण में मिनट की सुई की नोक
1. 6 अंक के अधिक पास है।
  2. 5 तथा 6 अंकों से समान दूरी पर है।
  3. 5 अंक के अधिक पास है।
  4. 11 तथा 12 अंकों से समान दूरी पर है।
7. At one instant, the hour hand and the minute hand of a clock are one over the other in between the markings for 5 and 6 on the dial. At this instant, the tip of the minute hand
1. is closer to the marking for 6
  2. is equidistant from the markings for 5 and 6
  3. is closer to marking for 5
  4. is equidistant from the markings for 11 and 12
8. एक पक्षी अपने घोंसले को छोड़कर उड़ जाता है। घोंसले से उसकी दूरी  $x$ , समय  $t$  के फलन के रूप में चित्रित किया गया है। निम्न चित्रों में कौन-सा सही हो नहीं सकता?



8. A bird leaves its nest and flies away. Its distance  $x$  from the nest is plotted as a function of time  $t$ . Which of the following plots cannot be right?





9. 1 सें.मी. मोटे गत्ते से बना एक घन गत्तीय बक्से का बाह्य पार्श्व 29 सें.मी. का है। उसी मोटाई के दूसरे एक बक्से को उसके अंदर कसकर रखा जाता है, एक और उसके अंदर, ऐसे सिलसिला चलता है। पूरे समुच्चय में कितने घन बक्से होंगे?
1. 29
  2. 28
  3. 15
  4. 14
9. A cubical cardboard box made of 1 cm thick card board has outer side of 29 cm. A tight-fitting cubical box of the same thickness is placed inside it, then another one inside it and so on. How many cubical boxes will be there in the entire set?
1. 29
  2. 28
  3. 15
  4. 14
10. लाल, हरा एवं नीला, इन तीन प्राथमिक वर्णों को अलग अनुपातों में मिश्रण करके द्वितीय वर्ण बनाये जाते हैं। हर प्राथमिक वर्ण 8 संभाव्य स्तरों में आता है। धूसर, लाल, हरे एवं नीले के समान अनुपातों के मिश्रण से बनता है। इस योजनानुसार धूसर के कितने स्तर होंगे?
1.  $8^3$
  2. 8
  3.  $3^8$
  4.  $8 \times 3$
10. Secondary colours are made by a mixture of three primary colours, Red, Green and Blue, in different proportions; each of the primary colours comes in 8 possible levels. Grey corresponds to equal proportions of Red, Green and Blue. How many shades of grey exist in this scheme?
1.  $8^3$
  2. 8
  3.  $3^8$
  4.  $8 \times 3$
11. द्विविमी समतल पर, रेखाओं  $y = x, y = 1 - x$  तथा  $x = 0$  से बनाया गया त्रिभुज है: (x तथा y अक्ष समान मापक्रम के हैं)
1. द्विसमभुज एवं लंबकोण
  2. द्विसमभुज परंतु लंबकोण नहीं
  3. लंबकोण परंतु द्विसमभुज नहीं
  4. न तो द्विसमभुज, न तो लंबकोण
11. The triangle formed by the lines  $y = x, y = 1 - x$  and  $x = 0$  in a two dimensional plane is (x and y axes have the same scale)
1. isosceles and right-angled
  2. isosceles but not right-angled
  3. right-angled but not isosceles
  4. neither isosceles nor right-angled
12. A तथा B दो बाल्टी हैं। प्रारंभ में A में 2 लिटर जल है तथा B खाली। हर घंटे A से B में एक लिटर जल स्थानांतरित किया जाता है, तथा उसके आधे घंटे के पश्चात B से A में  $\frac{1}{2}$  लिटर जल स्थानांतरित किया जाता है। जल्द से जल्द A खाली होगा :
1. 5 घंटों के बाद
  2. 4 घंटों के बाद
  3. 3 घंटों के बाद
  4. 2 घंटों के बाद
12. There are two buckets A and B. Initially A has 2 litres of water and B is empty. At every hour 1 litre of water is transferred from A to B followed by returning  $\frac{1}{2}$  litre back to A from B half an hour later. The earliest A will get empty is in:
1. 5 h
  2. 4 h
  3. 3 h
  4. 2 h
13. कथन A: निम्न कथन सत्य है।  
कथन B: उपरोक्त कथन झूठ है।  
सही निष्कर्ष को निम्न में से चुनें:
1. कथन A तथा कथन B दोनों हमेशा सही हैं।
  2. कथन A तथा कथन B दोनों सही हो सकते हैं, यदि A तथा B के बीच कम-से-कम एक और कथन होता।
  3. कथन A तथा कथन B दोनों सही हो सकते हैं, यदि A तथा B के बीच कम-से-कम दो और कथन होते।
  4. कथन A तथा कथन B दोनों स्वतंत्र: कभी सही नहीं हो सकते।
13. Statement A: The following statement is true  
Statement B: The preceding statement is false  
Choose the correct inference from the following:
1. Statements A and B are always true
  2. Statements A and B can be true if there is at least one statement between A and B

3. Statements A and B can be true if there are at least two statements between A and B
4. Statements A and B can never be true, independently.
14. एक कार 60 km/h गति से चल रही है। उसके पैरों के सबसे ऊपर स्थित बिन्दुओं की तत्कालिक गति है
1. 60 km/h आगे की तरफ
  2. 120 km/h आगे की तरफ
  3. 60 km/h आगे की तरफ
  4. 120 km/h आगे की तरफ
14. A car is moving at 60 km/h. The instantaneous velocity of the upper most points of its wheels is
1. 60 km/h forward
  2. 120 km/h forward
  3. 60 km/h backward
  4. 120 km/h backward
15. यदि  $D + I + M = 1501$   
 $C + I + V + I + L = 157$   
 $L + I + V + I + D = 557$   
 $C + I + V + I + C = 207$   
 हैं तो  $V + I + M = ?$
1. इसका पता नहीं लगाया जा सकता
  2. 1009
  3. 1006
  4. 509
15. If  $D + I + M = 1501$   
 $C + I + V + I + L = 157$   
 $L + I + V + I + D = 557$   
 $C + I + V + I + C = 207$   
 What is  $V + I + M = ?$
1. Cannot be found
  2. 1009
  3. 1006
  4. 509
16. एक जीवित कोशिका में जल-आधारित जीवद्रव्य एक वसा द्विपरत झिल्ली से सीमांकित है। यदि कोशिका को अपने व्यास के  $\frac{1}{5}$  भाग तक एक बहुत नुकीली सुई से छेदित किया जाता है, सुई को बाहर निकालने के बाद
1. कोई प्रभाव देखा नहीं जाएगा।
  2. जब तक कोशिका घाव को स्वस्थ नहीं कर देता तब तक सुई से बनाई गयी छेद से जीवद्रव्य का बहिःस्राव होगा।
  3. जब तक कोशिका मर नहीं जाती तब तक जीवद्रव्य का बहिःस्राव घटता रहेगा।
  4. गुब्बारे जैसे कोशिका फटेगी।
16. A living cell has a protoplasm which is water based and demarcated by a lipid bilayer membrane. If a cell is pierced up to  $\frac{1}{5}$  th of its diameter with a very sharp needle, after taking the needle out
1. no effect will be observed.
  2. protoplasm will leak out from the hole made by the needle for a few minutes until the cell heals the wound.
  3. protoplasm will keep on leaking out till the cell is dead.
  4. the cell will burst like a balloon.
17. एक चावल के अनाज का घनत्व है 1.5 g/cc तथा चावल के ढेर का पुंज घनत्व है 0.80 g/cc । यदि 1 लिटर के एक पात्र को चावल से पूरा भर दिया जाता है, तो पात्र में रिक्त स्थान का कुल आयतन होगा लगभग
1. 350 cc
  2. 465 cc
  3. 550 cc
  4. 665 cc
17. Density of a rice grain is 1.5 g/cc and bulk density of rice heap is 0.80 g/cc. If a 1 litre container is completely filled with rice, what will be the approximate volume of pore space in the container?
1. 350 cc
  2. 465 cc
  3. 550 cc
  4. 665 cc
18. एक वृत्ताकार तालाब की परिधि पर स्थित एक बिंदु A से एक कछुआ तैरना शुरू करता है। एक सरल रेखा में 4 मीटर तैरने के बाद वह तालाब की परिधि पर स्थित बिंदु B पर आता है। वहां से वह दिशा बदलता है तथा 3 मीटर सरल रेखा में तैरने के बाद वह A से व्यासतः उल्टी बिंदु D पर आ जाता है। A से D की क्या दूरी है?
1. 3 m
  2. 4 m
  3. 7 m
  4. 5 m
18. A turtle starts swimming from a point A located on the circumference of a circular pond. After swimming for 4 meters in a straight line it hits point B on the circumference of the pond. From there it changes direction and swims for 3 meters in a straight line and arrives at point D diametrically opposite to point A. How far is point D from A?





23. The function  $\frac{z}{\sin \pi z^2}$  of a complex variable  $z$  has

1. a simple pole at 0 and poles of order 2 at  $\pm \sqrt{n}$  for  $n = 1, 2, 3 \dots$
2. a simple pole at 0 and poles of order 2 at  $\pm \sqrt{n}$  and  $\pm i\sqrt{n}$  for  $n = 1, 2, 3 \dots$
3. poles of order 2 at  $\pm \sqrt{n}$ ,  $n = 0, 1, 2, 3 \dots$
4. poles of order 2 at  $\pm n$ ,  $n = 0, 1, 2, 3 \dots$

24.  $f(x)$  का फूरिये रूपान्तरण

$\tilde{f}(k) = \int_{-\infty}^{+\infty} dx e^{ikx} f(x)$  है। यदि  $f(x) = \alpha \delta(x) + \beta \delta'(x) + \gamma \delta''(x)$  है, जहां  $\delta(x)$  डिरैक डेल्टा फलन (तथा शिखी अवकलज को निर्दिष्ट करता है) तो  $\tilde{f}(k)$  क्या है ?

1.  $\alpha + i\beta k + i\gamma k^2$
2.  $\alpha + \beta k - \gamma k^2$
3.  $\alpha - i\beta k - \gamma k^2$
4.  $i\alpha + \beta k - i\gamma k^2$

24. The Fourier transform of  $f(x)$  is

$\tilde{f}(k) = \int_{-\infty}^{+\infty} dx e^{ikx} f(x)$ . If  $f(x) = \alpha \delta(x) + \beta \delta'(x) + \gamma \delta''(x)$ , where  $\delta(x)$  is the Dirac delta-function (and prime denotes derivative), what is  $\tilde{f}(k)$ ?

1.  $\alpha + i\beta k + i\gamma k^2$
2.  $\alpha + \beta k - \gamma k^2$
3.  $\alpha - i\beta k - \gamma k^2$
4.  $i\alpha + \beta k - i\gamma k^2$

25. प्रारंभिक प्रतिबंध,  $t = 0$  पर  $x = 0$  के दिये जाने पर, अवकल समीकरण  $\frac{dx}{dt} = 2\sqrt{1-x^2}$  का हल है

1.  $x = \begin{cases} \sin 2t, & 0 \leq t < \frac{\pi}{4} \\ \sinh 2t, & t \geq \frac{\pi}{4} \end{cases}$
2.  $x = \begin{cases} \sin 2t, & 0 \leq t < \frac{\pi}{2} \\ 1, & t \geq \frac{\pi}{2} \end{cases}$
3.  $x = \begin{cases} \sin 2t, & 0 \leq t < \frac{\pi}{4} \\ 1, & t \geq \frac{\pi}{4} \end{cases}$
4.  $x = 1 - \cos 2t, \quad t \geq 0$

25. The solution of the differential equation  $\frac{dx}{dt} = 2\sqrt{1-x^2}$ , with initial condition  $x = 0$  at  $t = 0$  is

1.  $x = \begin{cases} \sin 2t, & 0 \leq t < \frac{\pi}{4} \\ \sinh 2t, & t \geq \frac{\pi}{4} \end{cases}$
2.  $x = \begin{cases} \sin 2t, & 0 \leq t < \frac{\pi}{2} \\ 1, & t \geq \frac{\pi}{2} \end{cases}$
3.  $x = \begin{cases} \sin 2t, & 0 \leq t < \frac{\pi}{4} \\ 1, & t \geq \frac{\pi}{4} \end{cases}$
4.  $x = 1 - \cos 2t, \quad t \geq 0$

26. त्रिविम आकाश में एक केन्द्रीय विभव  $V(r) = kr^4$  में, जहां  $k$  एक अचर है, एक कण गतिशील है। एक वृत्तीय कक्षा की कोणीय आवृत्ति  $\omega$  उसकी त्रिज्या  $R$  पर इस प्रकार निर्भर है:

1.  $\omega \propto R$
2.  $\omega \propto R^{-1}$
3.  $\omega \propto R^{1/4}$
4.  $\omega \propto R^{-2/3}$

26. A particle moves in three-dimensional space in a central potential  $V(r) = kr^4$ , where  $k$  is a constant. The angular frequency  $\omega$  for a circular orbit depends on its radius  $R$  as

1.  $\omega \propto R$
2.  $\omega \propto R^{-1}$
3.  $\omega \propto R^{1/4}$
4.  $\omega \propto R^{-2/3}$

27. बिन्दुओं  $(x, y) = (a, a)$  तथा  $(-a, -a)$  पर दो द्रव्यमान, प्रत्येक  $m$ , रखे जाते हैं। दो अन्य द्रव्यमान, प्रत्येक  $2m$ , बिन्दुओं  $(a, -a)$  तथा  $(-a, a)$  पर रखे जाते हैं। तंत्र के जड़त्व के मुख्य आघूर्ण हैं:

1.  $2ma^2, 4ma^2$
2.  $4ma^2, 8ma^2$
3.  $4ma^2, 4ma^2$
4.  $8ma^2, 8ma^2$

27. Two masses,  $m$  each, are placed at the points  $(x, y) = (a, a)$  and  $(-a, -a)$ . Two masses,  $2m$  each, are placed at the points  $(a, -a)$  and  $(-a, a)$ . The principal moments of inertia of the system are

1.  $2ma^2, 4ma^2$
2.  $4ma^2, 8ma^2$
3.  $4ma^2, 4ma^2$
4.  $8ma^2, 8ma^2$

28. किसी तंत्र की लग्रांजी

$$L = \frac{1}{2}mq_1^2 + 2mq_2^2 - k \left( \frac{5}{4}q_1^2 + 2q_2^2 - 2q_1q_2 \right)$$

से दी जाती है जहां  $m$  तथा  $k$  धन अचर हैं। उसकी प्रसामान्य विधा की आवृत्तियां हैं

1.  $\sqrt{\frac{k}{2m}}, \sqrt{\frac{3k}{m}}$
2.  $\sqrt{\frac{k}{2m}} (13 \pm \sqrt{73})$
3.  $\sqrt{\frac{5k}{2m}}, \sqrt{\frac{k}{m}}$
4.  $\sqrt{\frac{k}{2m}}, \sqrt{\frac{6k}{m}}$

28. The Lagrangian of a system is given by  
 $L = \frac{1}{2}mq_1^2 + 2mq_2^2 - k\left(\frac{5}{4}q_1^2 + 2q_2^2 - 2q_1q_2\right)$   
 where  $m$  and  $k$  are positive constants. The frequencies of its normal modes are

1.  $\sqrt{\frac{k}{2m}}, \sqrt{\frac{3k}{m}}$
2.  $\sqrt{\frac{k}{2m}}(13 \pm \sqrt{73})$
3.  $\sqrt{\frac{5k}{2m}}, \sqrt{\frac{k}{m}}$
4.  $\sqrt{\frac{k}{2m}}, \sqrt{\frac{6k}{m}}$

29. द्रव्यमान  $m$  के एक कण के बारे में विचारें जो गति  $v$  के साथ गतिशील है। यदि  $T_R$  आपेक्षिकीय गतिक ऊर्जा को तथा  $T_N$  उसके अनापेक्षिकीय सन्निकटन को निर्दिष्ट करते हैं, तो  $v = 0.01c$  के लिए  $(T_R - T_N)/T_R$  का मान है

1.  $1.25 \times 10^{-5}$
2.  $5.0 \times 10^{-5}$
3.  $7.5 \times 10^{-5}$
4.  $1.0 \times 10^{-4}$

29. Consider a particle of mass  $m$  moving with a speed  $v$ . If  $T_R$  denotes the relativistic kinetic energy and  $T_N$  its non-relativistic approximation, then the value of  $(T_R - T_N)/T_R$  for  $v = 0.01c$ , is

1.  $1.25 \times 10^{-5}$
2.  $5.0 \times 10^{-5}$
3.  $7.5 \times 10^{-5}$
4.  $1.0 \times 10^{-4}$

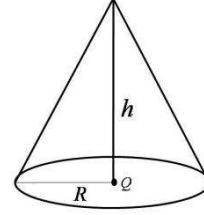
30. त्रिज्या  $a$  का एक खोखला धात्विक गोला, जो विभव  $V_0$  में रखा गया है, अपने केंद्र में आवेश  $Q$  रखता है। गोले के बाहर, केन्द्र से दूरी  $r$  पर, विभव है

1.  $V_0$
2.  $\frac{Q}{4\pi\epsilon_0 r} + \frac{V_0 a}{r}$
3.  $\frac{Q}{4\pi\epsilon_0 r} + \frac{V_0 a^2}{r^2}$
4.  $\frac{V_0 a}{r}$

30. A hollow metallic sphere of radius  $a$ , which is kept at a potential  $V_0$ , has a charge  $Q$  at its centre. The potential at a point outside the sphere, at a distance  $r$  from the centre, is

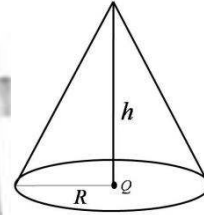
1.  $V_0$
2.  $\frac{Q}{4\pi\epsilon_0 r} + \frac{V_0 a}{r}$
3.  $\frac{Q}{4\pi\epsilon_0 r} + \frac{V_0 a^2}{r^2}$
4.  $\frac{V_0 a}{r}$

31. त्रिविम निर्देशांक तंत्र के उद्गम में रखे गये आवेश  $Q$  पर विचारें। एक शंकु, जिसकी ऊँचाई  $h$  तथा वृत्तीय पेंदे की त्रिज्या  $R$  (जैसे कि चित्र में दर्शाया गया है), के वक्र पृष्ठ से गुजरते विद्युत क्षेत्र का अभिवाह है



1.  $\frac{Q}{\epsilon_0}$
2.  $\frac{Q}{2\epsilon_0}$
3.  $\frac{hQ}{R\epsilon_0}$
4.  $\frac{QR}{2h\epsilon_0}$

31. Consider a charge  $Q$  at the origin of 3-dimensional coordinate system. The flux of the electric field through the curved surface of a cone that has a height  $h$  and a circular base of radius  $R$  (as shown in the figure) is



1.  $\frac{Q}{\epsilon_0}$
2.  $\frac{Q}{2\epsilon_0}$
3.  $\frac{hQ}{R\epsilon_0}$
4.  $\frac{QR}{2h\epsilon_0}$

32. एकसमान चुंबकीय क्षेत्र  $\mathbf{B} = B_0 \hat{k}$  (जहाँ  $B_0$  एक अचर है) के दिये जाने पर, चुंबकीय सदिश विभव  $\mathbf{A}$  के लिए एक संभाव्य वरण है:

1.  $B_0 y \hat{i}$
2.  $-B_0 y \hat{i}$
3.  $B_0(x \hat{j} + y \hat{i})$
4.  $B_0(x \hat{i} - y \hat{j})$

32. Given a uniform magnetic field  $\mathbf{B} = B_0 \hat{k}$  (where  $B_0$  is a constant), a possible choice for the magnetic vector potential  $\mathbf{A}$  is

1.  $B_0 y \hat{i}$
2.  $-B_0 y \hat{i}$
3.  $B_0(x \hat{j} + y \hat{i})$
4.  $B_0(x \hat{i} - y \hat{j})$

33. परावैद्युत अचर  $\epsilon_1$  के एक माध्यम तथा परवैद्युत अचर  $\epsilon_2 = 3\epsilon_1$  के दूसरे माध्यम के बीच के अंतरापृष्ठ से अधुवित प्रकाश का एक पुंज प्रतिवर्तित होता है। दोनों माध्यम की चुंबकीय व्याप्यतायें सर्वथासमान हैं। यदि आयतन कोण  $60^\circ$  है तो प्रतिवर्तित प्रकाश

1. आयतन तल से लंब, तल ध्रुवित है
2. आयतन तल से समांतर, तल ध्रुवित है
3. वृत्तीयतः ध्रुवित है
4. का ध्रुवण आपतित प्रकाश के ध्रुवण के समान है

33. A beam of unpolarized light in a medium with dielectric constant  $\epsilon_1$  is reflected from a plane interface formed with another medium of dielectric constant  $\epsilon_2 = 3\epsilon_1$ . The two media have identical magnetic permeability. If the angle of incidence is  $60^\circ$ , then the reflected light
1. is plane polarized perpendicular to the plane of incidence
  2. is plane polarized parallel to the plane of incidence
  3. is circularly polarized
  4. has the same polarization as the incident light
34. किसी हर्मिटी संकारक  $\hat{O}$  के दो प्रसामान्यीकृत अभिलक्षणिक अवस्थायें हैं  $|1\rangle$  तथा  $|2\rangle$ , जिनका अभिलक्षणिक मान क्रमशः 1 तथा 2 है। दो अवस्थायें  $|u\rangle = \cos\theta|1\rangle + \sin\theta|2\rangle$  तथा  $|v\rangle = \cos\phi|1\rangle + \sin\phi|2\rangle$ , ऐसी हैं कि  $\langle v|\hat{O}|v\rangle = 7/4$  तथा  $\langle u|v\rangle = 0$ ।  $\theta$  तथा  $\phi$  के सम्भाव्य मान निम्न में से क्या है?
1.  $\theta = -\frac{\pi}{6}$  तथा  $\phi = \frac{\pi}{3}$
  2.  $\theta = \frac{\pi}{6}$  तथा  $\phi = \frac{\pi}{3}$
  3.  $\theta = -\frac{\pi}{4}$  तथा  $\phi = \frac{\pi}{4}$
  4.  $\theta = \frac{\pi}{3}$  तथा  $\phi = -\frac{\pi}{6}$
34. A Hermitian operator  $\hat{O}$  has two normalised eigenstates  $|1\rangle$  and  $|2\rangle$  with eigenvalues 1 and 2, respectively. The two states  $|u\rangle = \cos\theta|1\rangle + \sin\theta|2\rangle$  and  $|v\rangle = \cos\phi|1\rangle + \sin\phi|2\rangle$  are such that  $\langle v|\hat{O}|v\rangle = 7/4$  and  $\langle u|v\rangle = 0$ . Which of the following are possible values of  $\theta$  and  $\phi$ ?
1.  $\theta = -\frac{\pi}{6}$  and  $\phi = \frac{\pi}{3}$
  2.  $\theta = \frac{\pi}{6}$  and  $\phi = \frac{\pi}{3}$
  3.  $\theta = -\frac{\pi}{4}$  and  $\phi = \frac{\pi}{4}$
  4.  $\theta = \frac{\pi}{3}$  and  $\phi = -\frac{\pi}{6}$
35. द्रव्यमान  $m$  के एक कण की, विभव  $V(x) = V_0 \cosh\left(\frac{x}{L}\right)$  में, जहां  $L$  तथा  $V_0$  अचर हैं, (और  $V_0 \gg \frac{\hbar^2}{2mL^2}$ ) है, आधार अवस्था ऊर्जा सन्निकटतः है
1.  $V_0 + \frac{\hbar}{L}\sqrt{\frac{2V_0}{m}}$
  2.  $V_0 + \frac{\hbar}{L}\sqrt{\frac{V_0}{m}}$
  3.  $V_0 + \frac{\hbar}{4L}\sqrt{\frac{V_0}{m}}$
  4.  $V_0 + \frac{\hbar}{2L}\sqrt{\frac{V_0}{m}}$
35. The ground state energy of a particle of mass  $m$  in the potential  $V(x) = V_0 \cosh\left(\frac{x}{L}\right)$ , where  $L$  and  $V_0$  are constants (and  $V_0 \gg \frac{\hbar^2}{2mL^2}$ ) is approximately
1.  $V_0 + \frac{\hbar}{L}\sqrt{\frac{2V_0}{m}}$
  2.  $V_0 + \frac{\hbar}{L}\sqrt{\frac{V_0}{m}}$
  3.  $V_0 + \frac{\hbar}{4L}\sqrt{\frac{V_0}{m}}$
  4.  $V_0 + \frac{\hbar}{2L}\sqrt{\frac{V_0}{m}}$
36. मानें कि  $\psi_{nlm}$  प्रायिक अंकन पद्धति में हाइड्रोजन परमाणु की अभिलक्षणिक अवस्थाओं को निर्दिष्ट करता है। अवस्था  $\frac{1}{5}[2\psi_{200} - 3\psi_{211} + \sqrt{7}\psi_{210} - \sqrt{5}\psi_{21-1}]$  निम्न में से किसकी अभिलक्षणिक अवस्था है?
1.  $L^2$ , परंतु हैमिल्टनी या  $L_z$  की नहीं
  2. हैमिल्टनी, परंतु  $L^2$  या  $L_z$  की नहीं
  3. हैमिल्टनी,  $L^2$  तथा  $L_z$  की
  4.  $L^2$  तथा  $L_z$  की, परंतु हैमिल्टनी की नहीं
36. Let  $\psi_{nlm}$  denote the eigenstates of a hydrogen atom in the usual notation. The state  $\frac{1}{5}[2\psi_{200} - 3\psi_{211} + \sqrt{7}\psi_{210} - \sqrt{5}\psi_{21-1}]$  is an eigenstate of
1.  $L^2$ , but not of the Hamiltonian or  $L_z$
  2. the Hamiltonian, but not of  $L^2$  or  $L_z$
  3. the Hamiltonian,  $L^2$  and  $L_z$
  4.  $L^2$  and  $L_z$ , but not of the Hamiltonian
37. आराम अवस्था में रहते प्रचरण- $1/2$  कण की हैमिल्टनी  $H = E_0(\sigma_z + \alpha\sigma_x)$  से दी जाती है, जहां  $\sigma_x$  तथा  $\sigma_z$  पाउली प्रचरण आव्यूह तथा  $E_0$  तथा  $\alpha$  अचर हैं। इस हैमिल्टनी के अभिलक्षणिक मान हैं
1.  $\pm E_0\sqrt{1+\alpha^2}$
  2.  $\pm E_0\sqrt{1-\alpha^2}$
  3.  $E_0$  (द्विक अपभ्रष्ट)
  4.  $E_0\left(1 \pm \frac{1}{2}\alpha^2\right)$
37. The Hamiltonian for a spin- $1/2$  particle at rest is given by  $H = E_0(\sigma_z + \alpha\sigma_x)$ , where  $\sigma_x$  and  $\sigma_z$  are Pauli spin matrices and  $E_0$  and  $\alpha$  are constants. The eigenvalues of this Hamiltonian are
1.  $\pm E_0\sqrt{1+\alpha^2}$
  2.  $\pm E_0\sqrt{1-\alpha^2}$
  3.  $E_0$  (doubly degenerate)
  4.  $E_0\left(1 \pm \frac{1}{2}\alpha^2\right)$

38. एक रेफ्रिजरेटर के भीतरी भाग की ऊष्मा धारिता 4.2 kJ/K है, और बाहर का तापमान 27°C है। रेफ्रिजरेटर में तापमान 18°C से 17°C तक कम करने के लिए न्यूनतम कार्य है लगभग

1. 2.20 kJ
2. 0.80 kJ
3. 0.30 kJ
4. 0.14 kJ

38. The heat capacity of (the interior of) a refrigerator is 4.2 kJ/K. The minimum work that must be done to lower the internal temperature from 18°C to 17°C when the outside temperature is 27°C is

1. 2.20 kJ
2. 0.80 kJ
3. 0.30 kJ
4. 0.14 kJ

39. स्वतंत्र, अन्योन्यक्रियाहीन, एक विमी दोलकों के एक तंत्र के लिए, सीमांत  $T \rightarrow 0$  में हर दोलक की मुक्त ऊर्जा का मान है:

1.  $\frac{1}{2} \hbar \omega$
2.  $\hbar \omega$
3.  $\frac{3}{2} \hbar \omega$
4. 0

39. For a system of independent non-interacting one-dimensional oscillators, the value of the free energy per oscillator, in the limit  $T \rightarrow 0$ , is

1.  $\frac{1}{2} \hbar \omega$
2.  $\hbar \omega$
3.  $\frac{3}{2} \hbar \omega$
4. 0

40.  $N$  आईसिंग प्रचरणों के एक तंत्र का संवितरण फलन है  $Z = \lambda_1^N + \lambda_2^N$ , जहां  $\lambda_1$  तथा  $\lambda_2$  ताप के फलन हैं, परंतु  $N$  पर निर्भर नहीं करता। यदि  $\lambda_1 > \lambda_2$  है, सीमांत  $N \rightarrow \infty$  पर हर प्रचरण का मुक्त ऊर्जा है

1.  $-k_B T \ln \left( \frac{\lambda_1}{\lambda_2} \right)$
2.  $-k_B T \ln \lambda_2$
3.  $-k_B T \ln (\lambda_1 \lambda_2)$
4.  $-k_B T \ln \lambda_1$

40. The partition function of a system of  $N$  Ising spins is  $Z = \lambda_1^N + \lambda_2^N$ , where  $\lambda_1$  and  $\lambda_2$  are functions of temperature, but are independent of  $N$ . If  $\lambda_1 > \lambda_2$ , the free energy per spin in the limit  $N \rightarrow \infty$  is

1.  $-k_B T \ln \left( \frac{\lambda_1}{\lambda_2} \right)$
2.  $-k_B T \ln \lambda_2$
3.  $-k_B T \ln (\lambda_1 \lambda_2)$
4.  $-k_B T \ln \lambda_1$

41.  $N$  अन्योन्यक्रियाहीन प्रचरण-1/2 कणों के एक तंत्र की हैमिल्टनी है  $H = -\mu_0 B \sum_i S_i^z$ , जहां  $S_i^z = \pm 1$  क्षेत्र के समांतर  $i^{\text{th}}$  प्रचरण के बाह्य चुंबकीय क्षेत्र  $B$  की दिशा में घटक है। ताप  $T$  जब  $e^{\mu_0 B / k_B T} = 2$  है, हर कण की विशिष्ट ऊष्मा है

1.  $\frac{16}{25} k_B$
2.  $\frac{8}{25} k_B \ln 2$
3.  $k_B (\ln 2)^2$
4.  $\frac{16}{25} k_B (\ln 2)^2$

41. The Hamiltonian of a system of  $N$  non-interacting spin-1/2 particles is  $H = -\mu_0 B \sum_i S_i^z$ , where  $S_i^z = \pm 1$  are the components of  $i^{\text{th}}$  spin along an external magnetic field  $B$ . At a temperature  $T$  such that  $e^{\mu_0 B / k_B T} = 2$ , the specific heat per particle is

1.  $\frac{16}{25} k_B$
2.  $\frac{8}{25} k_B \ln 2$
3.  $k_B (\ln 2)^2$
4.  $\frac{16}{25} k_B (\ln 2)^2$

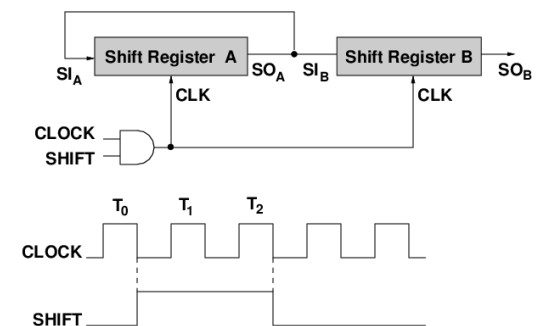
42. यदि किसी सिलिकॉन वैरेक्टर की पश्चदिशिक बायास वोल्टता दुगुनी की जाती है, संगत संक्रमण धारिता

1.  $\sqrt{2}$  गुनी बढ़ती है।
2. दुगुनी होती है।
3.  $\sqrt{2}$  गुनी घटती है।
4. आधी होती है।

42. If the reverse bias voltage of a silicon varactor is increased by a factor of 2, the corresponding transition capacitance

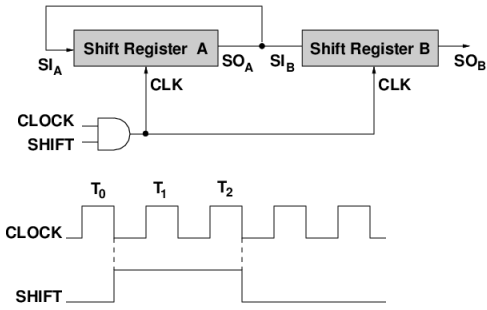
1. increases by a factor of  $\sqrt{2}$
2. increases by a factor of 2
3. decreases by a factor of  $\sqrt{2}$
4. decreases by a factor of 2

43. निम्न दिये गये आरेखीय चित्र में 4 बिट विस्थापन पंजियों A तथा B के प्रारंभिक मान क्रमशः हैं 1011 तथा 0010। स्पंद  $T_2$  के बाद  $SO_A$  तथा  $SO_B$  पर मान क्रमशः हैं



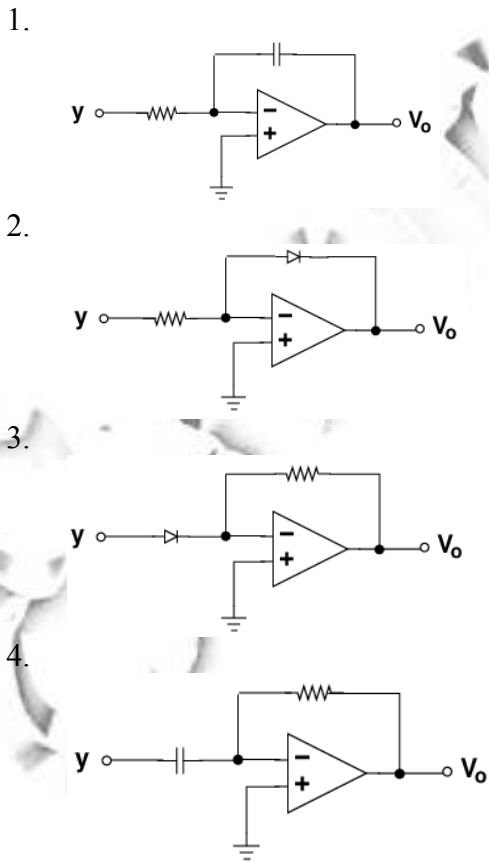
1. 1110 and 1001
2. 1101 and 1001
3. 1101 and 1100
4. 1110 and 1100

43. In the schematic figure given below, the initial values of 4 bit shift registers A and B are 1011 and 0010 respectively. The values at  $SO_A$  and  $SO_B$  after the pulse  $T_2$  are respectively

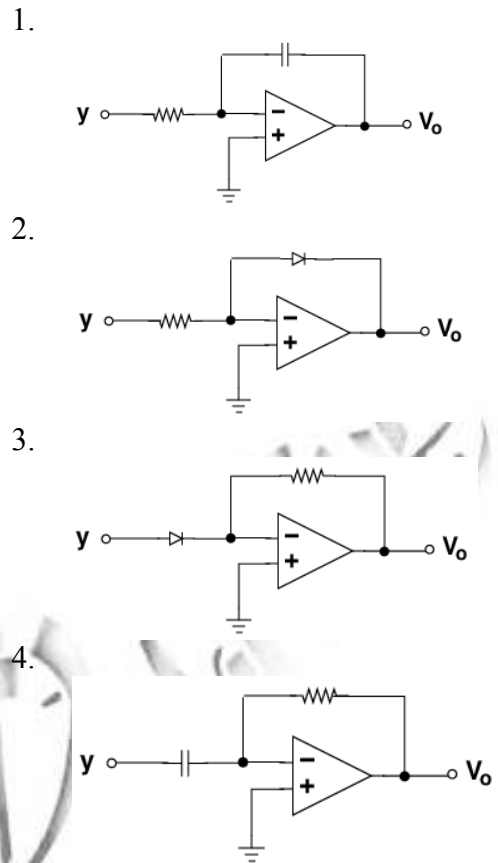


1. 1110 and 1001
2. 1101 and 1001
3. 1101 and 1100
4. 1110 and 1100

44. यदि प्राचल  $y$  तथा  $x$  का संबंध  $y = \log(x)$  से है, तो परिपथ जिसके उपयोग से  $x$  के साथ रैखिकतः विचरित निर्गम वोल्टता  $V_o$  उत्पादित हो सकता है, वह है



44. If the parameters  $y$  and  $x$  are related by  $y = \log(x)$ , then the circuit that can be used to produce an output voltage  $V_o$  varying linearly with  $x$  is



45. विभेदन 1 mV तथा 0.5 mV रखनेवाले दो वोल्टमीटरों द्वारा मापी गयी वोल्टता के 60 तथा 10 पाठ्यांकों को दो आंकड़े समूह A तथा B अंतर्विष्ट करते हैं। आंकड़े समूहों A तथा B से पायी गयी माध्य वोल्टताओं में अनिश्चिततायें क्रमशः  $U_A$  तथा  $U_B$  हैं। यदि संयोजित आंकड़े समूह में माध्य की अनिश्चितता  $U_{AB}$  है, तो निम्न कथनों में से कौन-सा सही है?

1.  $U_{AB} < U_A$  तथा  $U_{AB} > U_B$
2.  $U_{AB} < U_A$  तथा  $U_{AB} < U_B$
3.  $U_{AB} > U_A$  तथा  $U_{AB} < U_B$
4.  $U_{AB} > U_A$  तथा  $U_{AB} > U_B$

45. Two data sets A and B consist of 60 and 10 readings of a voltage measured using voltmeters of resolution of 1 mV and 0.5 mV respectively. The uncertainty in the mean voltage obtained from the data sets A and B are  $U_A$  and  $U_B$ , respectively. If the uncertainty of the mean of the combined data sets is  $U_{AB}$ , then which of the following statements is correct?

1.  $U_{AB} < U_A$  and  $U_{AB} > U_B$
2.  $U_{AB} < U_A$  and  $U_{AB} < U_B$
3.  $U_{AB} > U_A$  and  $U_{AB} < U_B$
4.  $U_{AB} > U_A$  and  $U_{AB} > U_B$

## भाग \ PART 'C'

46. हर्मिट बहुपद  $H_n(x)$  अवकल समीकरण

$$\frac{d^2 H_n}{dx^2} - 2x \frac{dH_n}{dx} + 2nH_n(x) = 0$$

का समाधान करता है। संगत जनक फलन

$$G(t, x) = \sum_{n=0}^{\infty} \frac{1}{n!} H_n(x) t^n$$

इस समीकरण का समाधान करता है

1.  $\frac{\partial^2 G}{\partial x^2} - 2x \frac{\partial G}{\partial x} + 2t \frac{\partial G}{\partial t} = 0$

2.  $\frac{\partial^2 G}{\partial x^2} - 2x \frac{\partial G}{\partial x} - 2t^2 \frac{\partial G}{\partial t} = 0$

3.  $\frac{\partial^2 G}{\partial x^2} - 2x \frac{\partial G}{\partial x} + 2 \frac{\partial G}{\partial t} = 0$

4.  $\frac{\partial^2 G}{\partial x^2} - 2x \frac{\partial G}{\partial x} + 2 \frac{\partial^2 G}{\partial x \partial t} = 0$

46. The Hermite polynomial  $H_n(x)$  satisfies the differential equation

$$\frac{d^2 H_n}{dx^2} - 2x \frac{dH_n}{dx} + 2nH_n(x) = 0.$$

The corresponding generating function

$$G(t, x) = \sum_{n=0}^{\infty} \frac{1}{n!} H_n(x) t^n$$

satisfies the equation

1.  $\frac{\partial^2 G}{\partial x^2} - 2x \frac{\partial G}{\partial x} + 2t \frac{\partial G}{\partial t} = 0$

2.  $\frac{\partial^2 G}{\partial x^2} - 2x \frac{\partial G}{\partial x} - 2t^2 \frac{\partial G}{\partial t} = 0$

3.  $\frac{\partial^2 G}{\partial x^2} - 2x \frac{\partial G}{\partial x} + 2 \frac{\partial G}{\partial t} = 0$

4.  $\frac{\partial^2 G}{\partial x^2} - 2x \frac{\partial G}{\partial x} + 2 \frac{\partial^2 G}{\partial x \partial t} = 0$

47. एक फलन  $f(x)$  अवकल समीकरण

$$\frac{d^2 f}{dx^2} - \omega^2 f = -\delta(x - a)$$

का समाधान करता है, जहां  $\omega$  धन है।  $f$  का फूरिये रूपांतरण

$$\tilde{f}(k) = \int_{-\infty}^{+\infty} dx e^{ikx} f(x)$$

तथा समीकरण का हल क्रमशः हैं:

1.  $\frac{e^{ika}}{k^2 + \omega^2}$  तथा  $\frac{1}{2\omega} (e^{-\omega|x-a|} + e^{\omega|x-a|})$

2.  $\frac{e^{ika}}{k^2 + \omega^2}$  तथा  $\frac{1}{2\omega} e^{-\omega|x-a|}$

3.  $\frac{e^{ika}}{k^2 - \omega^2}$  तथा  $\frac{1}{2\omega} (e^{-i\omega|x-a|} + e^{i\omega|x-a|})$

4.  $\frac{e^{ika}}{k^2 - \omega^2}$  तथा  $\frac{1}{2i\omega} (e^{-i\omega|x-a|} - e^{i\omega|x-a|})$

47. A function  $f(x)$  satisfies the differential

$$\frac{d^2 f}{dx^2} - \omega^2 f = -\delta(x - a),$$

where  $\omega$  is positive. The Fourier transform  $\tilde{f}(k) =$

$$\int_{-\infty}^{+\infty} dx e^{ikx} f(x)$$

of  $f$ , and the solution of the equation are, respectively,

1.  $\frac{e^{ika}}{k^2 + \omega^2}$  and  $\frac{1}{2\omega} (e^{-\omega|x-a|} + e^{\omega|x-a|})$

2.  $\frac{e^{ika}}{k^2 + \omega^2}$  and  $\frac{1}{2\omega} e^{-\omega|x-a|}$

3.  $\frac{e^{ika}}{k^2 - \omega^2}$  and  $\frac{1}{2\omega} (e^{-i\omega|x-a|} + e^{i\omega|x-a|})$

4.  $\frac{e^{ika}}{k^2 - \omega^2}$  and  $\frac{1}{2i\omega} (e^{-i\omega|x-a|} - e^{i\omega|x-a|})$

48. समीकरण  $\frac{dx}{dt} = 2\sqrt{1-x^2}$ , जहां  $|x| \leq 1$  से

नियंत्रित एक गतिकीय तंत्र के लिए

1.  $x = -1$  तथा  $x = 1$ , दोनों अस्थायी नियत बिंदुयें हैं

2.  $x = -1$  तथा  $x = 1$ , दोनों स्थायी नियत बिंदुयें हैं

3.  $x = -1$  एक अस्थायी नियत बिंदु है तथा  $x = 1$  एक स्थायी नियत बिंदु है

4.  $x = -1$  एक स्थायी नियत बिंदु है तथा  $x = 1$  एक अस्थायी नियत बिंदु है

48. For a dynamical system governed by the

$$\frac{dx}{dt} = 2\sqrt{1-x^2},$$

with  $|x| \leq 1$ ,

1.  $x = -1$  and  $x = 1$  are both unstable fixed points

2.  $x = -1$  and  $x = 1$  are both stable fixed points

3.  $x = -1$  is an unstable fixed point and  $x = 1$  is a stable fixed point

4.  $x = -1$  is a stable fixed point and  $x = 1$  is an unstable fixed point

49. यदि  $h = 2$  लिया जाए, तब सिम्पसन के  $\frac{1}{3}$  नियम

का उपयोग करके समाकल  $\int_0^8 \frac{1}{x^2+5} dx$  का मान है

1. 0.565

2. 0.620

3. 0.698

4. 0.736

49. The value of the integral  $\int_0^8 \frac{1}{x^2+5} dx,$

evaluated using Simpson's  $\frac{1}{3}$  rule with

$h = 2$ , is

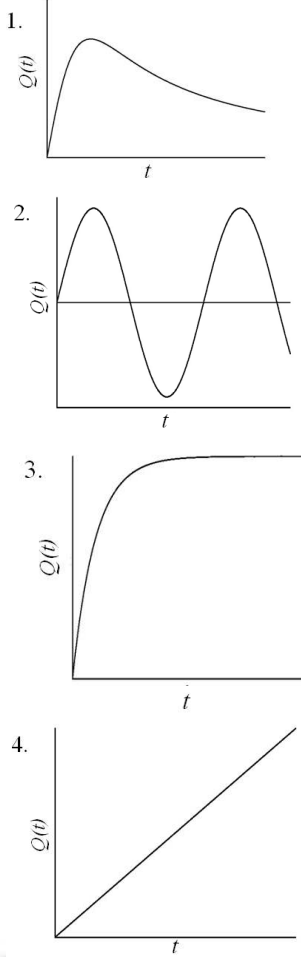
1. 0.565

2. 0.620

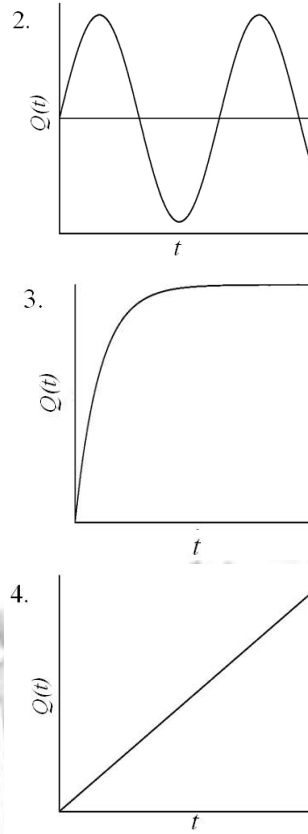
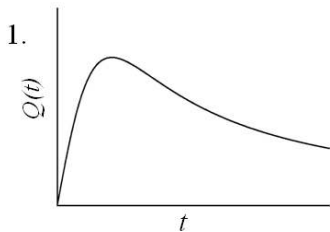
3. 0.698

4. 0.736

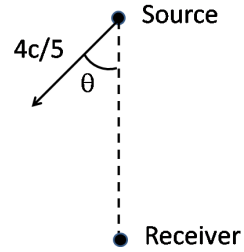
50. जनन फलन  $F = \frac{1}{2}m\omega q^2 \cot Q$  के उपयोग से हैमिल्टनी  $H = \frac{1}{2m}p^2 + \frac{1}{2}m\omega^2 q^2$  का विहित रूपांतरण  $(p, q) \rightarrow (P, Q)$  संपन्न किया जाता है। यदि  $Q(0) = 0$  है तो निम्न आलेखों में से कौन-सा  $Q(t)$  की  $t$  पर निर्भरता को दर्शाता है?



50. A canonical transformation  $(p, q) \rightarrow (P, Q)$  is performed on the Hamiltonian  $H = \frac{1}{2m}p^2 + \frac{1}{2}m\omega^2 q^2$  via the generating function  $F = \frac{1}{2}m\omega q^2 \cot Q$ . If  $Q(0) = 0$ , which of the following graphs shows schematically the dependence of  $Q(t)$  on  $t$ ?



51. आवृत्ति  $\omega$  का विकिरण उत्सर्जित करनेवाला एक दूरस्थ स्रोत अभिग्राहित्र के सापेक्ष चित्र में दर्शाये अनुसार किसी दिशा में गति  $4c/5$  के साथ गतिशील है।

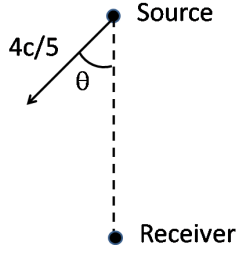


अभिग्राहित्र की उच्च अंतकीय अनावृत्ति  $3\omega/2$  है। मानें कि जैसे दर्शाया गया है, कोण  $\theta$  है। अभिग्राहित्र को विकिरण के संसूचन के लिए  $\theta$  को कम से कम होना चाहिए

1.  $\cos^{-1}\left(\frac{1}{2}\right)$
2.  $\cos^{-1}\left(\frac{3}{4}\right)$
3.  $\cos^{-1}\left(\frac{2}{\sqrt{5}}\right)$
4.  $\cos^{-1}\left(\sqrt{\frac{2}{3}}\right)$

51. A distant source, emitting radiation of frequency  $\omega$ , moves with a velocity  $4c/5$  in a certain direction with respect to a receiver (as shown in the figure).





The upper cut-off frequency of the receiver is  $3\omega/2$ . Let  $\theta$  be the angle as shown. For the receiver to detect the radiation,  $\theta$  should at least be

1.  $\cos^{-1}\left(\frac{1}{2}\right)$
2.  $\cos^{-1}\left(\frac{3}{4}\right)$
3.  $\cos^{-1}\left(\frac{2}{\sqrt{5}}\right)$
4.  $\cos^{-1}\left(\sqrt{\frac{2}{3}}\right)$

52. एक समतल में गतिशील एक कण की लग्रांजी कार्तीय निर्देशांकों में ऐसे दिया गया है:

$$L = \dot{x}\dot{y} - x^2 - y^2$$

ध्रुवीय निर्देशांकों में विहित संवेग  $p_r$  (त्रिज्यी निर्देशांक  $r$  से संयुग्मी) है

1.  $\dot{r} \sin \theta + r\dot{\theta} \cos \theta$
2.  $\dot{r} \cos \theta + r\dot{\theta} \sin \theta$
3.  $2\dot{r} \cos 2\theta - r\dot{\theta} \sin 2\theta$
4.  $\dot{r} \sin 2\theta + r\dot{\theta} \cos 2\theta$

52. The Lagrangian of a particle moving in a plane is given in Cartesian coordinates as

$$L = \dot{x}\dot{y} - x^2 - y^2$$

In polar coordinates the expression for the canonical momentum  $p_r$  (conjugate to the radial coordinate  $r$ ) is

1.  $\dot{r} \sin \theta + r\dot{\theta} \cos \theta$
2.  $\dot{r} \cos \theta + r\dot{\theta} \sin \theta$
3.  $2\dot{r} \cos 2\theta - r\dot{\theta} \sin 2\theta$
4.  $\dot{r} \sin 2\theta + r\dot{\theta} \cos 2\theta$

53. एक छोटी चुंबकीय सुई स्थान  $(0,0)$  पर रखी जाती है ताकि उसका आघूर्ण  $x$ -अक्ष के साथ-साथ हो। दूसरी एक छोटी चुंबकीय सुई बिंदु स्थान  $(1, 1)$  पर है तथा वह  $xy$ -समतल में घूर्णन के लिए मुक्त है। साम्यावस्था में उनके चुंबकीय आघूर्णों के बीच का कोण  $\theta$  ऐसे होगा की

1.  $\tan \theta = 1/3$
2.  $\tan \theta = 0$
3.  $\tan \theta = 3$
4.  $\tan \theta = 1$

53. A small magnetic needle is kept at  $(0,0)$  with its moment along the  $x$ -axis. Another small magnetic needle is at the point  $(1, 1)$  and is free to rotate in the  $xy$ -plane. In equilibrium the angle  $\theta$  between their magnetic moments is such that

1.  $\tan \theta = 1/3$
2.  $\tan \theta = 0$
3.  $\tan \theta = 3$
4.  $\tan \theta = 1$

54. आघूर्ण  $\vec{p}$  का एक द्विध्रुव, आवृत्ति  $\omega$  के साथ दोलन करते हुए, गोलाकार तरंगों को विकिरणित करती है। अधिक दूरी पर सदिश विभव है

$\vec{A}(\vec{r}) = \frac{\mu_0}{4\pi} i\omega \frac{e^{ikr}}{r} \vec{p}$ ।  $(1/r)$  की कोटि तक, बिंदु  $\vec{r} = r\hat{n}$  पर चुंबकीय क्षेत्र  $\vec{B}$  है

1.  $-\frac{\mu_0}{4\pi} \frac{\omega^2}{c} (\hat{n} \cdot \vec{p}) \hat{n} \frac{e^{ikr}}{r}$
2.  $-\frac{\mu_0}{4\pi} \frac{\omega^2}{c} (\hat{n} \times \vec{p}) \frac{e^{ikr}}{r}$
3.  $-\frac{\mu_0}{4\pi} \omega^2 k (\hat{n} \cdot \vec{p}) \vec{p} \frac{e^{ikr}}{r}$
4.  $-\frac{\pi_0}{4\pi} \frac{\omega^2}{c} \vec{p} \frac{e^{ikr}}{r}$

54. A dipole of moment  $\vec{p}$ , oscillating at frequency  $\omega$ , radiates spherical waves. The vector potential at large distance is

$$\vec{A}(\vec{r}) = \frac{\mu_0}{4\pi} i\omega \frac{e^{ikr}}{r} \vec{p}$$

To order  $(1/r)$  the magnetic field  $\vec{B}$  at a point  $\vec{r} = r\hat{n}$  is

1.  $-\frac{\mu_0}{4\pi} \frac{\omega^2}{c} (\hat{n} \cdot \vec{p}) \hat{n} \frac{e^{ikr}}{r}$
2.  $-\frac{\mu_0}{4\pi} \frac{\omega^2}{c} (\hat{n} \times \vec{p}) \frac{e^{ikr}}{r}$
3.  $-\frac{\mu_0}{4\pi} \omega^2 k (\hat{n} \cdot \vec{p}) \vec{p} \frac{e^{ikr}}{r}$
4.  $-\frac{\pi_0}{4\pi} \frac{\omega^2}{c} \vec{p} \frac{e^{ikr}}{r}$

55. किसी पदार्थ का आवृत्ति निर्भर परावैद्युत अचर  $\epsilon(\omega) = 1 + \frac{A}{\omega_0^2 - \omega^2 - i\omega\gamma}$  से दिया जाता है, जहां  $A$  एक धन अचर है,  $\omega_0$  अनुनादी आवृत्ति तथा  $\gamma$ , अवमंदन गुणांक है। कोणीय आवृत्ति  $\omega \ll \omega_0$  की एक विद्युतचुंबकीय तरंग के लिए निम्न में से क्या सही है ? (मानिये कि  $\frac{\gamma}{\omega_0} \ll 1$  है)

1. तरंग की उपेक्षणीय अवशोषण है।
2. तरंग प्रचारण अत्यंत परिक्षेपी है।
3. विद्युतचुंबकीय तरंग का प्रबल अवशोषण है।
4. समूह वेग तथा प्रावस्था वेग के चिह्न उल्टे होंगे।

55. The frequency dependent dielectric constant of a material is given by

$$\epsilon(\omega) = 1 + \frac{A}{\omega_0^2 - \omega^2 - i\omega\gamma}$$

where  $A$  is a positive constant,  $\omega_0$  the resonant frequency and  $\gamma$  the damping coefficient. For an electromagnetic wave of angular frequency  $\omega \ll \omega_0$ ,

which of the following is true? (Assume that  $\frac{v}{\omega_0} \ll 1$ .)

1. There is negligible absorption of the wave
  2. The wave propagation is highly dispersive
  3. There is strong absorption of the electromagnetic wave
  4. The group velocity and the phase velocity will have opposite sign
56. एक हाईड्रोजन परमाणु को  $V_{pert}(\mathbf{r}) = \epsilon \cos(2r/a_0)$  के क्षोभ अधीन किया जाता है, जहाँ  $a_0$  बोर त्रिज्या है।  $\epsilon$  की प्रथम कोटि तक आधार अवस्था ऊर्जा में परिवर्तन है:
1.  $\epsilon/4$
  2.  $\epsilon/2$
  3.  $-\epsilon/2$
  4.  $-\epsilon/4$
56. A hydrogen atom is subjected to the perturbation  $V_{pert}(\mathbf{r}) = \epsilon \cos(2r/a_0)$ , where  $a_0$  is the Bohr radius. The change in the ground state energy to first order in  $\epsilon$  is
1.  $\epsilon/4$
  2.  $\epsilon/2$
  3.  $-\epsilon/2$
  4.  $-\epsilon/4$
57. एक ट्रिटियम परमाणु ( ${}^3_1\text{H}$ ) के नाभिक एक पॉजिट्रॉन को अचानक अवशोषित करके ट्रिटियम  $\text{He}^+$  आयन में परिवर्तित होता है। यदि प्रारंभ में ट्रिटियम परमाणु का इलेक्ट्रॉन आधार अवस्था में था, तो  $\text{He}^+$  आयन अपना आधार अवस्था में होने की प्रायिकता है
1. 1
  2.  $\frac{8}{9}$
  3.  $\frac{128}{243}$
  4.  $\frac{512}{729}$
57. A positron is suddenly absorbed by the nucleus of a tritium ( ${}^3_1\text{H}$ ) atom to turn the latter into a  $\text{He}^+$  ion. If the electron in the tritium atom was initially in the ground state, the probability that the resulting  $\text{He}^+$  ion will be in its ground state is
1. 1
  2.  $\frac{8}{9}$
  3.  $\frac{128}{243}$
  4.  $\frac{512}{729}$
58. अवस्था  $a|1,1\rangle + b|1,-1\rangle$  (यहाँ  $|l,m\rangle$   $L^2$  तथा  $L_z$  की एक अभिलक्षणिक अवस्था को निर्दिष्ट करते हैं) में रहते एक कण के लिए अनिश्चितताओं का गुणनफल  $(\Delta L_x)(\Delta L_y)$  न्यूनतम होगा इसके लिए

1.  $a = \pm ib$
2.  $a = 0$  तथा  $b = 1$
3.  $a = \frac{\sqrt{3}}{2}$  तथा  $b = \frac{1}{2}$
4.  $a = \pm b$

58. The product of the uncertainties  $(\Delta L_x)(\Delta L_y)$  for a particle in the state  $a|1,1\rangle + b|1,-1\rangle$  (where  $|l,m\rangle$  denotes an eigenstate of  $L^2$  and  $L_z$ ) will be a minimum for

1.  $a = \pm ib$
2.  $a = 0$  and  $b = 1$
3.  $a = \frac{\sqrt{3}}{2}$  and  $b = \frac{1}{2}$
4.  $a = \pm b$

59. परीक्षण तरंगफलन

$$\psi(x) = \begin{cases} \sqrt{\frac{c}{a^5}}(a^2 - x^2), & x < |a| \\ 0 & , x \geq |a| \end{cases}$$

के उपयोग से आकलित विभव  $V(x) = g|x|$  में रहते एक कण की आधार अवस्था ऊर्जा (जहाँ  $g$  तथा  $c$  अचर हैं) है:

1.  $\frac{15}{16} \left(\frac{\hbar^2 g^2}{m}\right)^{1/3}$
2.  $\frac{5}{6} \left(\frac{\hbar^2 g^2}{m}\right)^{1/3}$
3.  $\frac{3}{4} \left(\frac{\hbar^2 g^2}{m}\right)^{1/3}$
4.  $\frac{7}{8} \left(\frac{\hbar^2 g^2}{m}\right)^{1/3}$

59. The ground state energy of a particle in the potential  $V(x) = g|x|$ , estimated using the trial wavefunction

$$\psi(x) = \begin{cases} \sqrt{\frac{c}{a^5}}(a^2 - x^2), & x < |a| \\ 0 & , x \geq |a| \end{cases}$$

(where  $g$  and  $c$  are constants) is

1.  $\frac{15}{16} \left(\frac{\hbar^2 g^2}{m}\right)^{1/3}$
2.  $\frac{5}{6} \left(\frac{\hbar^2 g^2}{m}\right)^{1/3}$
3.  $\frac{3}{4} \left(\frac{\hbar^2 g^2}{m}\right)^{1/3}$
4.  $\frac{7}{8} \left(\frac{\hbar^2 g^2}{m}\right)^{1/3}$

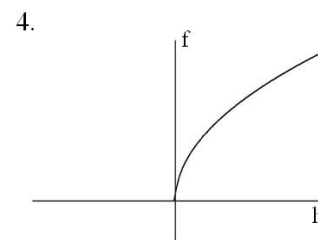
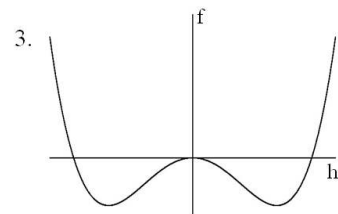
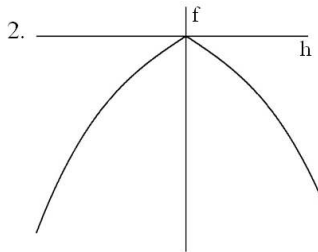
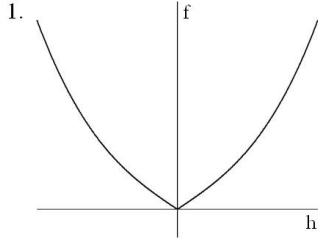
60. एक अन्योन्यक्रियाहीन प्रचक्रमण- $\frac{1}{2}$  वाला कण समुच्चय ताप  $T$  के एक ऊष्मा कुण्ड के संपर्क में है, और उसे एक बाह्य चुंबकीय क्षेत्र के अधीन किया जाता है। हर कण की दो क्वांटम अवस्थाओं की ऊर्जायें  $\pm \epsilon_0$  हैं। यदि प्रति कण की माध्य ऊर्जा  $-\epsilon_0/2$  है, तो उसकी मुक्त ऊर्जा है

1.  $-2\epsilon_0 \frac{\ln(4/\sqrt{3})}{\ln 3}$
2.  $-\epsilon_0 \ln(3/2)$
3.  $-2\epsilon_0 \ln 2$
4.  $-\epsilon_0 \frac{\ln 2}{\ln 3}$

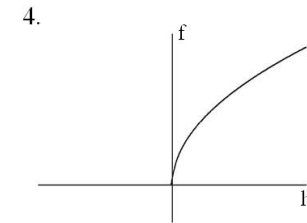
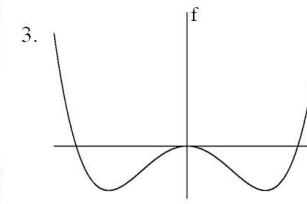
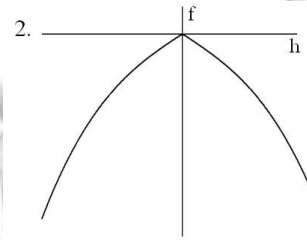
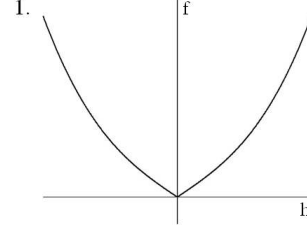
60. An ensemble of non-interacting spin- $\frac{1}{2}$  particles is in contact with a heat bath at temperature  $T$ , and is subjected to an external magnetic field. Each particle can be in one of the two quantum states of energies  $\pm\epsilon_0$ . If the mean energy per particle is  $-\epsilon_0/2$ , then the free energy per particle is

1.  $-2\epsilon_0 \frac{\ln(4/\sqrt{3})}{\ln 3}$
2.  $-\epsilon_0 \ln(3/2)$
3.  $-2\epsilon_0 \ln 2$
4.  $-\epsilon_0 \frac{\ln 2}{\ln 3}$

61. एक स्थिर ताप  $T < T_c$  (यहां  $T_c$  क्रान्तिक ताप है) तथा एक बाह्य चुंबकीय क्षेत्र  $h$  में किसी लोह चुंबक की मुक्त ऊर्जा  $f(h, T)$  की गुणात्मक निर्भरता को निम्न आलेखों में से कौन-सा दर्शाता है?



61. Which of the following graphs shows the qualitative dependence of the free energy  $f(h, T)$  of a ferromagnet in an external magnetic field  $h$ , and at a fixed temperature  $T < T_c$  where  $T_c$  is the critical temperature?



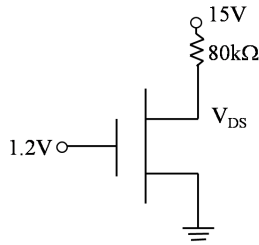
62. एक वर्ग जालक पर किसी यादृच्छिक भ्रमणकर्ता चार स्थानों में प्रत्येक के लिए समान प्रायिकता के साथ निकटतम पड़ोसी स्थान में गतिशील होता है। उद्गम में प्रारंभ करते हुए भ्रमणकर्ता 3 कदम लेता है। इस भ्रमण के दौरान कोई भी स्थान एक से अधिक बार सैर नहीं किया जाता इसकी प्रायिकता है

1.  $12/27$
2.  $27/64$
3.  $3/8$
4.  $9/16$

62. Consider a random walker on a square lattice. At each step the walker moves to a nearest neighbour site with equal probability for each of the four sites. The walker starts at the origin and takes 3 steps. The probability that during this walk no site is visited more than once is

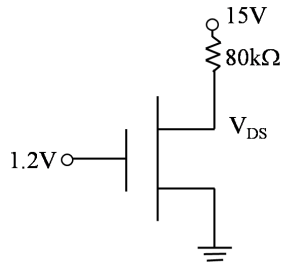
1. 12/27
2. 27/64
3. 3/8
4. 9/16

63. निम्न प्राचल युक्त एक  $n$ -MOSFET पर विचारें: विद्युत धारा बल  $K = 60 \mu\text{A}/\text{V}^2$ , भंजन वोल्टता  $BV_{DS} = 10 \text{ V}$ , प्रभावी द्वार चौड़ाई से प्रणाल दीर्घता का अनुपात  $\frac{W}{L} = 5$  तथा देहली वोल्टता  $V_{th} = 0.5\text{V}$  । निम्न दर्शाये परिपथ में, यह  $n$ -MOSFET इस क्षेत्र में काम कर रहा है:



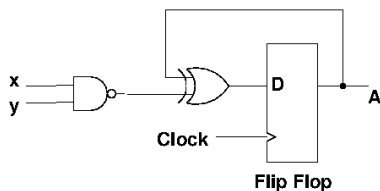
1. ओहमिक क्षेत्र
2. अंतक क्षेत्र
3. संतृप्तता क्षेत्र
4. भंजन क्षेत्र

63. Consider an  $n$ -MOSFET with the following parameters: current drive strength  $K = 60 \mu\text{A}/\text{V}^2$ , breakdown voltage  $BV_{DS} = 10 \text{ V}$ , ratio of effective gate width to the channel length  $\frac{W}{L} = 5$  and threshold voltage  $V_{th} = 0.5\text{V}$ . In the circuit given below, this  $n$ -MOSFET is operating in the

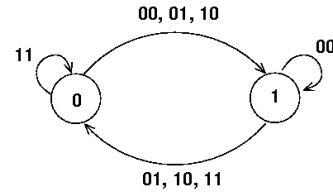


1. ohmic region
2. cut-off region
3. saturation region
4. breakdown region

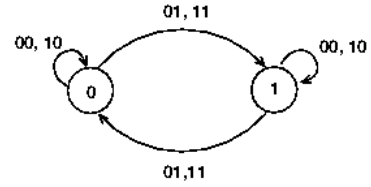
64. निम्न परिपथ से संगत अवस्था चित्र है:



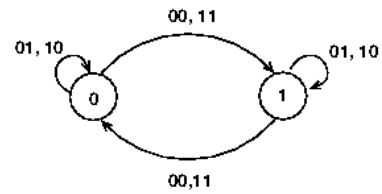
1.



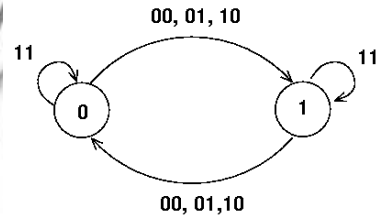
2.



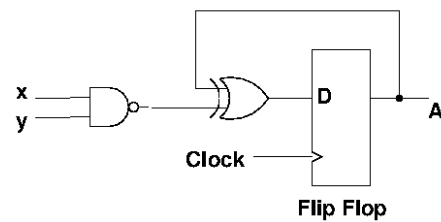
3.



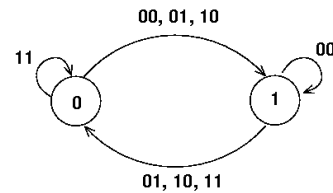
4.



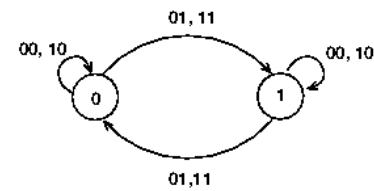
64. The state diagram corresponding to the following circuit is



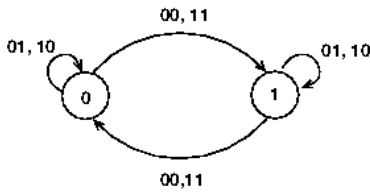
1.



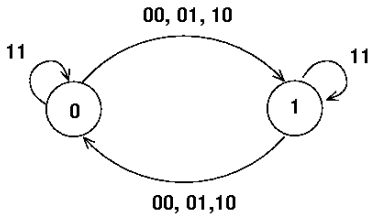
2.



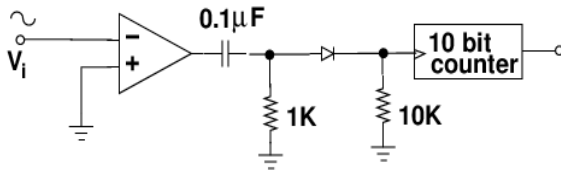
3.



4.

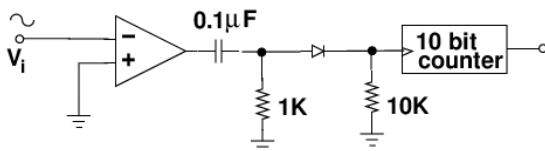


65. निम्न परिपथ में 5 सेकंड अवधि के लिए शीर्ष से शीर्ष आयाम 1V तथा अज्ञात आवर्तकाल के एक ज्यावक्रीय संकेत को निवेश किया जाता है। यदि गणित्र षोडसाधारी में मान  $(3E8)_H$  मापता है तो निवेशित संकेत का आवर्तकाल है:



1. 2.5 ms                      2. 4 ms  
3. 10 ms                        4. 5 ms

65. A sinusoidal signal of peak to peak amplitude 1V and unknown time period is input to the following circuit for 5 seconds duration. If the counter measures a value  $(3E8)_H$  in hexadecimal then the time period of the input signal is



1. 2.5 ms                      2. 4 ms  
3. 10 ms                        4. 5 ms

66. जब किसी स्फटिकीय ठोस पदार्थ का विवर्तन प्रतिमान तरंगदैर्घ्य 0.15 nm के x-विकिरण पुंज के उपयोग से अभिलिखित होता है, उसकी प्रथम कोटि विवर्तन शीर्ष, कोण  $30^\circ$  पर घटता है। यदि तरंगदैर्घ्य

तथा कोण के मापन की त्रुटियां क्रमशः 0.01 nm तथा  $1^\circ$  हैं तो अंतर्तलीय दूरी की परिकलन में त्रुटि होगी लगभग

1.  $1.1 \times 10^{-2}$  nm                      2.  $1.3 \times 10^{-4}$  nm  
3.  $2.5 \times 10^{-2}$  nm                      4.  $2.0 \times 10^{-3}$  nm

66. The first order diffraction peak of a crystalline solid occurs at a scattering angle of  $30^\circ$  when the diffraction pattern is recorded using an x-ray beam of wavelength 0.15 nm. If the error in measurements of the wavelength and the angle are 0.01 nm and  $1^\circ$  respectively, then the error in calculating the interplanar spacing will approximately be
1.  $1.1 \times 10^{-2}$  nm                      2.  $1.3 \times 10^{-4}$  nm  
3.  $2.5 \times 10^{-2}$  nm                      4.  $2.0 \times 10^{-3}$  nm

67. त्रिविम जालक में इलेक्ट्रॉनों का परिक्षेपण संबंध सुसंहत बंधन सन्निकटन में

$$\epsilon_k = \alpha \cos k_x a + \beta \cos k_y a + \gamma \cos k_z a$$

से दिया जाता है, जहां  $a$  जालक अचर है तथा  $\alpha, \beta, \gamma$  ऊर्जा के विम वाले अचर हैं। प्रथम ब्रिलुवां क्षेत्र  $(\frac{\pi}{a}, \frac{\pi}{a}, \frac{\pi}{a})$  के कोने पर प्रभावी द्रव्यमान प्रदिश है

1.  $\frac{\hbar^2}{a^2} \begin{pmatrix} -\frac{1}{\alpha} & 0 & 0 \\ 0 & -\frac{1}{\beta} & 0 \\ 0 & 0 & \frac{1}{\gamma} \end{pmatrix}$

2.  $\frac{\hbar^2}{a^2} \begin{pmatrix} -\frac{1}{\alpha} & 0 & 0 \\ 0 & -\frac{1}{\beta} & 0 \\ 0 & 0 & -\frac{1}{\gamma} \end{pmatrix}$

3.  $\frac{\hbar^2}{a^2} \begin{pmatrix} \frac{1}{\alpha} & 0 & 0 \\ 0 & \frac{1}{\beta} & 0 \\ 0 & 0 & \frac{1}{\gamma} \end{pmatrix}$

4.  $\frac{\hbar^2}{a^2} \begin{pmatrix} \frac{1}{\alpha} & 0 & 0 \\ 0 & \frac{1}{\beta} & 0 \\ 0 & 0 & -\frac{1}{\gamma} \end{pmatrix}$

67. The dispersion relation of electrons in a 3-dimensional lattice in the tight binding approximation is given by,  
 $\epsilon_k = \alpha \cos k_x a + \beta \cos k_y a + \gamma \cos k_z a$   
where  $a$  is the lattice constant and  $\alpha, \beta, \gamma$  are constants with dimension of energy. The

effective mass tensor at the corner of the first Brillouin zone  $\left(\frac{\pi}{a}, \frac{\pi}{a}, \frac{\pi}{a}\right)$  is

$$1. \frac{\hbar^2}{a^2} \begin{pmatrix} -\frac{1}{\alpha} & 0 & 0 \\ 0 & -\frac{1}{\beta} & 0 \\ 0 & 0 & \frac{1}{\gamma} \end{pmatrix}$$

$$2. \frac{\hbar^2}{a^2} \begin{pmatrix} -\frac{1}{\alpha} & 0 & 0 \\ 0 & -\frac{1}{\beta} & 0 \\ 0 & 0 & -\frac{1}{\gamma} \end{pmatrix}$$

$$3. \frac{\hbar^2}{a^2} \begin{pmatrix} \frac{1}{\alpha} & 0 & 0 \\ 0 & \frac{1}{\beta} & 0 \\ 0 & 0 & \frac{1}{\gamma} \end{pmatrix}$$

$$4. \frac{\hbar^2}{a^2} \begin{pmatrix} \frac{1}{\alpha} & 0 & 0 \\ 0 & \frac{1}{\beta} & 0 \\ 0 & 0 & -\frac{1}{\gamma} \end{pmatrix}$$

68. परिमाण  $2 \text{ mm} \times 2 \text{ mm}$  का एक पतले धात्विक फिल्म में  $4 \times 10^{12}$  इलेक्ट्रॉनों है। तंत्र का फ़ेर्मी तरंग सदिश का परिमाण, मुक्त इलेक्ट्रॉन सन्निकटन में, है

1.  $2\sqrt{\pi} \times 10^7 \text{ cm}^{-1}$
2.  $\sqrt{2\pi} \times 10^7 \text{ cm}^{-1}$
3.  $\sqrt{\pi} \times 10^7 \text{ cm}^{-1}$
4.  $2\pi \times 10^7 \text{ cm}^{-1}$

68. A thin metal film of dimension  $2 \text{ mm} \times 2 \text{ mm}$  contains  $4 \times 10^{12}$  electrons. The magnitude of the Fermi wavevector of the system, in the free electron approximation, is

1.  $2\sqrt{\pi} \times 10^7 \text{ cm}^{-1}$
2.  $\sqrt{2\pi} \times 10^7 \text{ cm}^{-1}$
3.  $\sqrt{\pi} \times 10^7 \text{ cm}^{-1}$
4.  $2\pi \times 10^7 \text{ cm}^{-1}$

69. जालक आवर्त दूरी  $a$  युक्त एक आवर्ती एक-विमी जालक से गुजरते एक इलेक्ट्रॉन के लिए, ब्लॉख प्रमेय से अवरोधी ऊर्जा अभिलक्षणिक फलन के संगत निम्न तरंग फलनों में से कौनसा है?

1.  $\psi(x) = A \exp\left(i\left[\frac{\pi x}{a} + \cos\left(\frac{\pi x}{2a}\right)\right]\right)$
2.  $\psi(x) = A \exp\left(i\left[\frac{\pi x}{a} + \cos\left(\frac{2\pi x}{a}\right)\right]\right)$

3.  $\psi(x) = A \exp\left(i\left[\frac{2\pi x}{a} + i \cosh\left(\frac{2\pi x}{a}\right)\right]\right)$
4.  $\psi(x) = A \exp\left(i\left[\frac{\pi x}{2a} + i\left[\frac{\pi x}{2a}\right]\right]\right)$

69. For an electron moving through a one-dimensional periodic lattice of periodicity  $a$ , which of the following corresponds to an energy eigenfunction consistent with Bloch's theorem?

1.  $\psi(x) = A \exp\left(i\left[\frac{\pi x}{a} + \cos\left(\frac{\pi x}{2a}\right)\right]\right)$
2.  $\psi(x) = A \exp\left(i\left[\frac{\pi x}{a} + \cos\left(\frac{2\pi x}{a}\right)\right]\right)$
3.  $\psi(x) = A \exp\left(i\left[\frac{2\pi x}{a} + i \cosh\left(\frac{2\pi x}{a}\right)\right]\right)$
4.  $\psi(x) = A \exp\left(i\left[\frac{\pi x}{2a} + i\left[\frac{\pi x}{2a}\right]\right]\right)$

70.  $^{12}\text{Mg}$ ,  $^{13}\text{Al}$ ,  $^{17}\text{Cl}$  तथा  $^{18}\text{Ar}$  की आधार अवस्थाओं का LS विन्यास क्रमशः हैं

1.  $^3S_1$ ,  $^2P_{1/2}$ ,  $^2P_{1/2}$  तथा  $^1S_0$
2.  $^3S_1$ ,  $^2P_{3/2}$ ,  $^2P_{3/2}$  तथा  $^3S_1$
3.  $^1S_0$ ,  $^2P_{1/2}$ ,  $^2P_{3/2}$  तथा  $^1S_0$
4.  $^1S_0$ ,  $^2P_{3/2}$ ,  $^2P_{1/2}$  तथा  $^3S_1$

70. The LS configurations of the ground state of  $^{12}\text{Mg}$ ,  $^{13}\text{Al}$ ,  $^{17}\text{Cl}$  and  $^{18}\text{Ar}$  are, respectively,

1.  $^3S_1$ ,  $^2P_{1/2}$ ,  $^2P_{1/2}$  and  $^1S_0$
2.  $^3S_1$ ,  $^2P_{3/2}$ ,  $^2P_{3/2}$  and  $^3S_1$
3.  $^1S_0$ ,  $^2P_{1/2}$ ,  $^2P_{3/2}$  and  $^1S_0$
4.  $^1S_0$ ,  $^2P_{3/2}$ ,  $^2P_{1/2}$  and  $^3S_1$

71. एक द्विअवस्था तंत्र के लिए, उपरी तथा निचली स्तरों में परमाणुओं की आबादियां क्रमशः  $3 \times 10^{18}$  तथा  $0.7 \times 10^{18}$  हैं। यदि उद्दीपित उत्सर्जन गुणांक  $3.0 \times 10^5 \text{ m}^3/\text{W-s}^3$  तथा ऊर्जा घनत्व  $9.0 \text{ J/m}^3\text{-Hz}$  है। उद्दीपित उत्सर्जन गति होगी

1.  $6.3 \times 10^{16} \text{ s}^{-1}$
2.  $4.1 \times 10^{16} \text{ s}^{-1}$
3.  $2.7 \times 10^{16} \text{ s}^{-1}$
4.  $1.8 \times 10^{16} \text{ s}^{-1}$

71. For a two level system, the population of atoms in the upper and lower levels are  $3 \times 10^{18}$  and  $0.7 \times 10^{18}$ , respectively. If the coefficient of stimulated emission is  $3.0 \times 10^5 \text{ m}^3/\text{W-s}^3$  and the energy density is  $9.0 \text{ J/m}^3\text{-Hz}$ , the rate of stimulated emission will be

1.  $6.3 \times 10^{16} \text{ s}^{-1}$
2.  $4.1 \times 10^{16} \text{ s}^{-1}$
3.  $2.7 \times 10^{16} \text{ s}^{-1}$
4.  $1.8 \times 10^{16} \text{ s}^{-1}$

72. K के प्रथम ऑयनीकरण विभव 4.34 eV है, Cl का इलेक्ट्रॉन बंधुता 3.82 eV तथा KCl की साम्यावस्था पार्थक्य 0.3 nm है। KCl अणु को K तथा Cl परमाणुओं में वियोजित करने के लिए आवश्यक ऊर्जा है

- |            |            |
|------------|------------|
| 1. 8.62 eV | 2. 8.16 eV |
| 3. 4.28 eV | 4. 4.14 eV |

72. The first ionization potential of K is 4.34 eV, the electron affinity of Cl is 3.82 eV and the equilibrium separation of KCl is 0.3 nm. The energy required to dissociate a KCl molecule into a K and a Cl atom is

- |            |            |
|------------|------------|
| 1. 8.62 eV | 2. 8.16 eV |
| 3. 4.28 eV | 4. 4.14 eV |

73. मुक्त कणों से सम्मिलित निम्न प्रक्रियाओं पर विचारें

- $\bar{n} \rightarrow \bar{p} + e^+ + \bar{\nu}_e$
- $\bar{p} + n \rightarrow \pi^-$
- $p + n \rightarrow \pi^+ + \pi^0 + \pi^0$
- $p + \bar{\nu}_e \rightarrow n + e^+$

निम्न कथनों में से कौन-सा सही है?

- प्रक्रिया (i) सभी संरक्षण विधियों का पालन करता है
- प्रक्रिया (ii) बेरियान् संख्या का संरक्षण करता है, परंतु ऊर्जा संवेग संरक्षण का उल्लंघन करता है
- प्रक्रिया (iii) प्रबल अन्योन्यक्रियाओं द्वारा अनुमत नहीं है, परंतु क्षीण अन्योन्यक्रियाओं द्वारा अनुमत है
- प्रक्रिया (iv) बेरियान् संख्या का संरक्षण करता है, परंतु लेप्टॉन संख्या संरक्षण का उल्लंघन करता है

73. Consider the following processes involving free particles

- $\bar{n} \rightarrow \bar{p} + e^+ + \bar{\nu}_e$
- $\bar{p} + n \rightarrow \pi^-$
- $p + n \rightarrow \pi^+ + \pi^0 + \pi^0$
- $p + \bar{\nu}_e \rightarrow n + e^+$

Which of the following statements is true?

- Process (i) obeys all conservation laws
- Process (ii) conserves baryon number, but violates energy-momentum conservation

- Process (iii) is not allowed by strong interactions, but is allowed by weak interactions
- Process (iv) conserves baryon number, but violates lepton number conservation

74. विषम प्रोटॉन नाभिक का विद्युतीय चतुर्ध्रुव आघूर्ण का मान  $\frac{(2j-1)}{2(j+1)}\langle r^2 \rangle$  है, जहां  $j$  पूर्ण कोणिय संवेग है।  $R_0 = 1.2$  फ़र्मी दिये जाने पर, कोशीय मॉडल के अनुसार  $^{27}\text{Al}$  नाभिक का चतुर्ध्रुव आघूर्ण का बॉर्न में मान है

- |          |          |
|----------|----------|
| 1. 0.043 | 2. 0.023 |
| 3. 0.915 | 4. 0     |

74. The electric quadrupole moment of an odd proton nucleus is  $\frac{(2j-1)}{2(j+1)}\langle r^2 \rangle$ , where  $j$  is the total angular momentum. Given that  $R_0 = 1.2$  fm, what is the value, in barn, of the quadrupole moment of the  $^{27}\text{Al}$  nucleus in the shell model?

- |          |          |
|----------|----------|
| 1. 0.043 | 2. 0.023 |
| 3. 0.915 | 4. 0     |

75. द्रव्यमान संख्या  $A = 125$  के नाभिकों में से, द्रव बंद प्रतिमान से परिकल्पित बंधन ऊर्जा (कूलंब तथा असममिता ऊर्जाओं के लिए गुणांकों क्रमशः

$a_c = 0.7\text{MeV}$  तथा  $a_{sym} = 22.5\text{MeV}$  के दिये जाने पर) उच्चतम इसके लिए हैं:

- |                           |                           |
|---------------------------|---------------------------|
| 1. $^{125}_{54}\text{Xe}$ | 2. $^{125}_{53}\text{I}$  |
| 3. $^{125}_{52}\text{Te}$ | 4. $^{125}_{51}\text{Sb}$ |

75. Of the nuclei of mass number  $A = 125$ , the binding energy calculated from the liquid drop model (given that the coefficients for the Coulomb and the asymmetry energy are  $a_c = 0.7\text{MeV}$  and  $a_{sym} = 22.5\text{MeV}$  respectively) is a maximum for

- |                           |                           |
|---------------------------|---------------------------|
| 1. $^{125}_{54}\text{Xe}$ | 2. $^{125}_{53}\text{I}$  |
| 3. $^{125}_{52}\text{Te}$ | 4. $^{125}_{51}\text{Sb}$ |

FOR ROUGH WORK





JOINT CSIR-UGC-JRF/NET DECEMBER 2015 FINAL ANSWER KEY BOOKLET A  
PHYSICAL SCIENCE

BILINGUAL

| Q. No. | Key           | Q. No. | Key |
|--------|---------------|--------|-----|
| 1      | 4             | 41     | 4   |
| 2      | 2             | 42     | 3   |
| 3      | 2             | 43     | 4   |
| 4      | 2             | 44     | 3   |
| 5      | 1             | 45     | 2   |
| 6      | 2             | 46     | 1   |
| 7      | 3             | 47     | 2   |
| 8      | 3             | 48     | 3   |
| 9      | 4             | 49     | 1   |
| 10     | 2             | 50     | 4   |
| 11     | 1             | 51     | 2   |
| 12     | 3             | 52     | 4   |
| 13     | 3             | 53     | 3   |
| 14     | <b>2 or 4</b> | 54     | 2   |
| 15     | 3             | 55     | 1   |
| 16     | 1             | 56     | 4   |
| 17     | 2             | 57     | 4   |
| 18     | 4             | 58     | 4   |
| 19     | 4             | 59     | 1   |
| 20     | 4             | 60     | 1   |
| 21     | 3             | 61     | 2   |
| 22     | 4             | 62     | 4   |
| 23     | 2             | 63     | 3   |
| 24     | 3             | 64     | 4   |
| 25     | 3             | 65     | 4   |
| 26     | 1             | 66     | 1   |
| 27     | 2             | 67     | 3   |
| 28     | 1             | 68     | 2   |
| 29     | 3             | 69     | 2   |
| 30     | 4             | 70     | 3   |
| 31     | 2             | 71     | 3   |
| 32     | 2             | 72     | 3   |
| 33     | 1             | 73     | 2   |
| 34     | 1             | 74     | 1   |
| 35     | 4             | 75     | 3   |
| 36     | 2             |        |     |
| 37     | 1             |        |     |
| 38     | 4             |        |     |
| 39     | 1             |        |     |
| 40     | 4             |        |     |

change in key indicated in bold

JOINT CSIR-UGC-JRF/NET DECEMBER 2015 FINAL ANSWER KEY BOOKLET A  
PHYSICAL SCIENCE

ENGLISH

| Q. No. | Key | Q. No. | Key |
|--------|-----|--------|-----|
| 1      | 4   | 41     | 4   |
| 2      | 2   | 42     | 3   |
| 3      | 2   | 43     | 4   |
| 4      | 2   | 44     | 3   |
| 5      | 1   | 45     | 2   |
| 6      | 2   | 46     | 1   |
| 7      | 3   | 47     | 2   |
| 8      | 3   | 48     | 3   |
| 9      | 4   | 49     | 1   |
| 10     | 2   | 50     | 4   |
| 11     | 1   | 51     | 2   |
| 12     | 3   | 52     | 4   |
| 13     | 3   | 53     | 3   |
| 14     | 2   | 54     | 2   |
| 15     | 3   | 55     | 1   |
| 16     | 1   | 56     | 4   |
| 17     | 2   | 57     | 4   |
| 18     | 4   | 58     | 4   |
| 19     | 4   | 59     | 1   |
| 20     | 4   | 60     | 1   |
| 21     | 3   | 61     | 2   |
| 22     | 4   | 62     | 4   |
| 23     | 2   | 63     | 3   |
| 24     | 3   | 64     | 4   |
| 25     | 3   | 65     | 4   |
| 26     | 1   | 66     | 1   |
| 27     | 2   | 67     | 3   |
| 28     | 1   | 68     | 2   |
| 29     | 3   | 69     | 2   |
| 30     | 4   | 70     | 3   |
| 31     | 2   | 71     | 3   |
| 32     | 2   | 72     | 3   |
| 33     | 1   | 73     | 2   |
| 34     | 1   | 74     | 1   |
| 35     | 4   | 75     | 3   |
| 36     | 2   |        |     |
| 37     | 1   |        |     |
| 38     | 4   |        |     |
| 39     | 1   |        |     |
| 40     | 4   |        |     |

JOINT CSIR-UGC-JRF/NET DECEMBER 2015 FINAL ANSWER KEY BOOKLET B  
PHYSICAL SCIENCE

BILINGUAL

| Q. No. | Key           | Q. No. | Key |
|--------|---------------|--------|-----|
| 1      | 2             | 41     | 4   |
| 2      | 2             | 42     | 3   |
| 3      | 1             | 43     | 4   |
| 4      | 3             | 44     | 4   |
| 5      | 2             | 45     | 1   |
| 6      | 1             | 46     | 1   |
| 7      | 3             | 47     | 2   |
| 8      | <b>2 or 4</b> | 48     | 3   |
| 9      | 1             | 49     | 2   |
| 10     | 3             | 50     | 4   |
| 11     | 2             | 51     | 1   |
| 12     | 4             | 52     | 2   |
| 13     | 4             | 53     | 1   |
| 14     | 4             | 54     | 4   |
| 15     | 4             | 55     | 3   |
| 16     | 2             | 56     | 4   |
| 17     | 3             | 57     | 1   |
| 18     | 4             | 58     | 4   |
| 19     | 3             | 59     | 4   |
| 20     | 2             | 60     | 4   |
| 21     | 1             | 61     | 1   |
| 22     | 1             | 62     | 4   |
| 23     | 3             | 63     | 3   |
| 24     | 3             | 64     | 2   |
| 25     | 3             | 65     | 4   |
| 26     | 2             | 66     | 2   |
| 27     | 3             | 67     | 3   |
| 28     | 2             | 68     | 1   |
| 29     | 4             | 69     | 3   |
| 30     | 1             | 70     | 2   |
| 31     | 1             | 71     | 3   |
| 32     | 2             | 72     | 3   |
| 33     | 1             | 73     | 3   |
| 34     | 4             | 74     | 1   |
| 35     | 2             | 75     | 2   |
| 36     | 2             |        |     |
| 37     | 4             |        |     |
| 38     | 4             |        |     |
| 39     | 2             |        |     |
| 40     | 3             |        |     |

change in key indicated in bold

JOINT CSIR-UGC-JRF/NET DECEMBER 2015 FINAL ANSWER KEY BOOKLET B  
 PHYSICAL SCIENCE

ENGLISH

| Q. No. | Key | Q. No. | Key |
|--------|-----|--------|-----|
| 1      | 2   | 41     | 4   |
| 2      | 2   | 42     | 3   |
| 3      | 1   | 43     | 4   |
| 4      | 3   | 44     | 4   |
| 5      | 2   | 45     | 1   |
| 6      | 1   | 46     | 1   |
| 7      | 3   | 47     | 2   |
| 8      | 2   | 48     | 3   |
| 9      | 1   | 49     | 2   |
| 10     | 3   | 50     | 4   |
| 11     | 2   | 51     | 1   |
| 12     | 4   | 52     | 2   |
| 13     | 4   | 53     | 1   |
| 14     | 4   | 54     | 4   |
| 15     | 4   | 55     | 3   |
| 16     | 2   | 56     | 4   |
| 17     | 3   | 57     | 1   |
| 18     | 4   | 58     | 4   |
| 19     | 3   | 59     | 4   |
| 20     | 2   | 60     | 4   |
| 21     | 1   | 61     | 1   |
| 22     | 1   | 62     | 4   |
| 23     | 3   | 63     | 3   |
| 24     | 3   | 64     | 2   |
| 25     | 3   | 65     | 4   |
| 26     | 2   | 66     | 2   |
| 27     | 3   | 67     | 3   |
| 28     | 2   | 68     | 1   |
| 29     | 4   | 69     | 3   |
| 30     | 1   | 70     | 2   |
| 31     | 1   | 71     | 3   |
| 32     | 2   | 72     | 3   |
| 33     | 1   | 73     | 3   |
| 34     | 4   | 74     | 1   |
| 35     | 2   | 75     | 2   |
| 36     | 2   |        |     |
| 37     | 4   |        |     |
| 38     | 4   |        |     |
| 39     | 2   |        |     |
| 40     | 3   |        |     |

JOINT CSIR-UGC-JRF/NET DECEMBER 2015 FINAL ANSWER KEY BOOKLET C  
PHYSICAL SCIENCE

BILINGUAL

| Q. No. | Key           | Q. No. | Key |
|--------|---------------|--------|-----|
| 1      | 2             | 41     | 4   |
| 2      | 3             | 42     | 4   |
| 3      | 3             | 43     | 4   |
| 4      | <b>2 or 4</b> | 44     | 4   |
| 5      | 2             | 45     | 3   |
| 6      | 3             | 46     | 3   |
| 7      | 4             | 47     | 1   |
| 8      | 4             | 48     | 4   |
| 9      | 2             | 49     | 2   |
| 10     | 1             | 50     | 2   |
| 11     | 2             | 51     | 1   |
| 12     | 2             | 52     | 1   |
| 13     | 3             | 53     | 4   |
| 14     | 2             | 54     | 3   |
| 15     | 3             | 55     | 2   |
| 16     | 1             | 56     | 4   |
| 17     | 4             | 57     | 4   |
| 18     | 4             | 58     | 2   |
| 19     | 4             | 59     | 1   |
| 20     | 1             | 60     | 1   |
| 21     | 3             | 61     | 4   |
| 22     | 4             | 62     | 4   |
| 23     | 2             | 63     | 4   |
| 24     | 2             | 64     | 3   |
| 25     | 3             | 65     | 4   |
| 26     | 1             | 66     | 3   |
| 27     | 3             | 67     | 3   |
| 28     | 1             | 68     | 1   |
| 29     | 3             | 69     | 2   |
| 30     | 1             | 70     | 1   |
| 31     | 4             | 71     | 2   |
| 32     | 2             | 72     | 3   |
| 33     | 1             | 73     | 3   |
| 34     | 4             | 74     | 2   |
| 35     | 1             | 75     | 3   |
| 36     | 2             |        |     |
| 37     | 2             |        |     |
| 38     | 3             |        |     |
| 39     | 1             |        |     |
| 40     | 2             |        |     |

change in key indicated in bold

JOINT CSIR-UGC-JRF/NET DECEMBER 2015 FINAL ANSWER KEY BOOKLET C  
PHYSICAL SCIENCE

ENGLISH

| Q. No. | Key | Q. No. | Key |
|--------|-----|--------|-----|
| 1      | 2   | 41     | 4   |
| 2      | 3   | 42     | 4   |
| 3      | 3   | 43     | 4   |
| 4      | 2   | 44     | 4   |
| 5      | 2   | 45     | 3   |
| 6      | 3   | 46     | 3   |
| 7      | 4   | 47     | 1   |
| 8      | 4   | 48     | 4   |
| 9      | 2   | 49     | 2   |
| 10     | 1   | 50     | 2   |
| 11     | 2   | 51     | 1   |
| 12     | 2   | 52     | 1   |
| 13     | 3   | 53     | 4   |
| 14     | 2   | 54     | 3   |
| 15     | 3   | 55     | 2   |
| 16     | 1   | 56     | 4   |
| 17     | 4   | 57     | 4   |
| 18     | 4   | 58     | 2   |
| 19     | 4   | 59     | 1   |
| 20     | 1   | 60     | 1   |
| 21     | 3   | 61     | 4   |
| 22     | 4   | 62     | 4   |
| 23     | 2   | 63     | 4   |
| 24     | 2   | 64     | 3   |
| 25     | 3   | 65     | 4   |
| 26     | 1   | 66     | 3   |
| 27     | 3   | 67     | 3   |
| 28     | 1   | 68     | 1   |
| 29     | 3   | 69     | 2   |
| 30     | 1   | 70     | 1   |
| 31     | 4   | 71     | 2   |
| 32     | 2   | 72     | 3   |
| 33     | 1   | 73     | 3   |
| 34     | 4   | 74     | 2   |
| 35     | 1   | 75     | 3   |
| 36     | 2   |        |     |
| 37     | 2   |        |     |
| 38     | 3   |        |     |
| 39     | 1   |        |     |
| 40     | 2   |        |     |